

Ποια από τα παρακάτω αθροίσματα ταιριάζουν με τις εικόνες που συνοδεύουν; Κύκλωσε τις σωστές λύσεις μόνο.




4	και	4		
4	και	1		
2	και	1	και	1
2	και	2	και	1
1	και	3	και	1



___ λέκος ___ __ κης ___ __ κης ___ __ σχάλης

Στον πιο ψηλό από όλα τα παιδιά συμπλήρωσε τη φωνούλα **Πα**. Στον πιο κοντό τη φωνούλα **Α**. Δίπλα στο πιο ψηλό βάλε τη φωνούλα **Λά** και δεξιά από το πιο κοντό παιδί βάλε τη φωνούλα **Τά**. Με τη βοήθεια ενός μεγάλου διαβάστε τα ονόματα των παιδιών.

Γράψε μια ιστορία για κάθε εικόνα που βλέπεις. Χρησιμοποίησε το σύμβολο της πρόσθεσης και τους αριθμούς που ταιριάζουν με τις εικόνες.











παπάκια και μαμά πάπια μας κάνουν




<input type="text"/>	<input type="text"/>	<input type="text"/>	<input type="text"/>	<input type="text"/>
----------------------	----------------------	----------------------	----------------------	----------------------

Γράφω για κάθε ομάδα τον αριθμό που της ταιριάζει και συμπληρώνω ανάμεσα στους αριθμούς το σύμβολο που πρέπει:




< = >

			
<input type="text"/> <input type="text"/> <input type="text"/>	<input type="text"/> <input type="text"/> <input type="text"/>	<input type="text"/> <input type="text"/> <input type="text"/>	<input type="text"/> <input type="text"/> <input type="text"/>
			
<input type="text"/> <input type="text"/> <input type="text"/>	<input type="text"/> <input type="text"/> <input type="text"/>	<input type="text"/> <input type="text"/> <input type="text"/>	<input type="text"/> <input type="text"/> <input type="text"/>

Σχεδιάσε ένα ορθογώνιο πιο ψηλό και πιο πλατύ για κάθε σχήμα που υπάρχει παρακάτω:

		
---	---	---

Σχεδιάσε ένα ορθογώνιο πιο χαμηλό και πιο στενό για κάθε σχήμα που υπάρχει παρακάτω:

		
---	---	---