
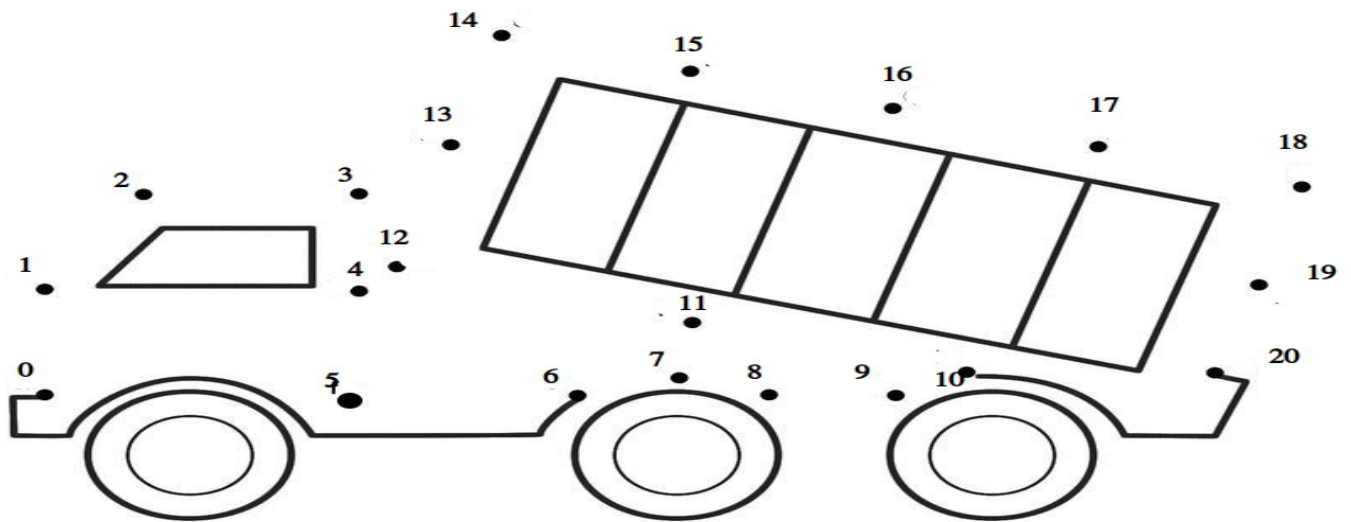


Στους παρακάτω άβακες κύκλωσε τόσες χάντρες, όσες γράφει ο αριθμός που τους συνοδεύει. Πρέπει να θυμηθείς ότι κάθε στήλη είναι και μια δεκάδα, δηλαδή δέκα χάντρες.



Ένωσε τις κουκίδες ώστε να σχηματιστεί το όχημα που βλέπεις. Όταν μπορείς, χρησιμοποίησε χάρακα για ίσιες ευθείες.



Τα 3 γουρουνάκια έφυγαν χαρούμενα προς το σπίτι τους. Όλα μαζί ήταν 10 . Πόσα γουρουνάκια έμειναν στο σπίτι; Λύση: \_\_\_\_\_

Απάντηση: \_\_\_\_\_



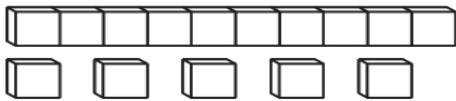
Στο δάσος ζούσαν 10 αλεπούδες. Οι 7 από αυτές είναι κόκκινες. Πόσες είναι οι γκρίζες αλεπούδες;

Λύση: \_\_\_\_\_ - \_\_\_\_\_ = \_\_\_\_\_

Απάντηση: Οι γκρίζες αλεπούδες είναι \_\_\_\_\_ .

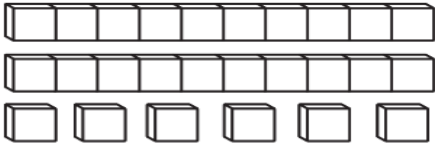


Μετρώ τα κυβάρια και υπολογίζω το άθροισμά τους.



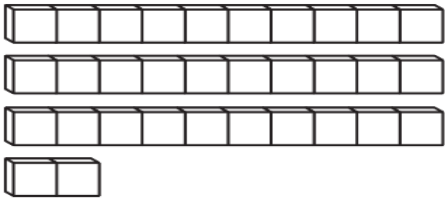
$$10 + 5$$

Όλα είναι



.....

Όλα είναι



.....

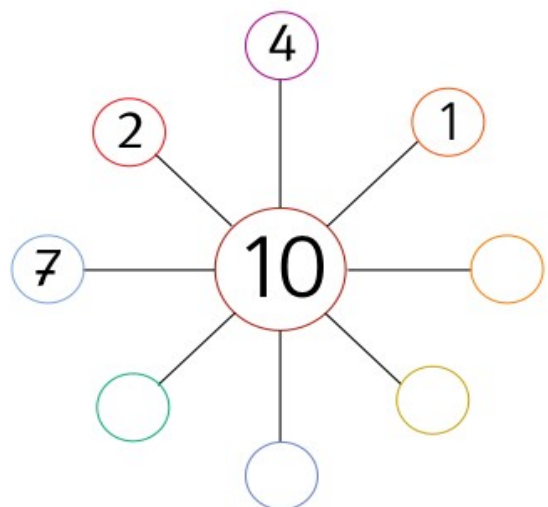
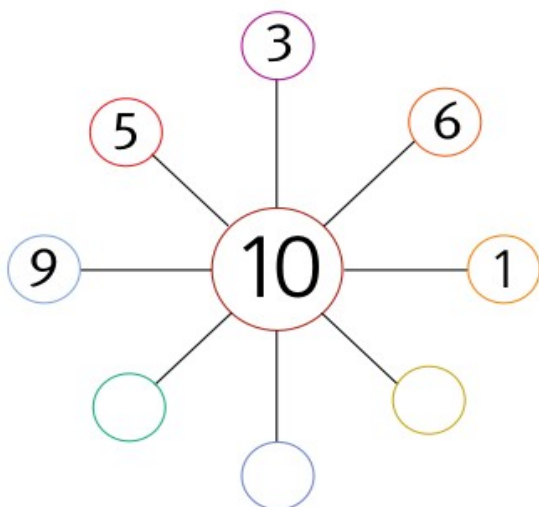
Όλα είναι



Δημιουργώ δικά μου μοτίβα.



Συμπληρώνω τους αριθμούς που λείπουν.



Όνομα: \_\_\_\_\_