
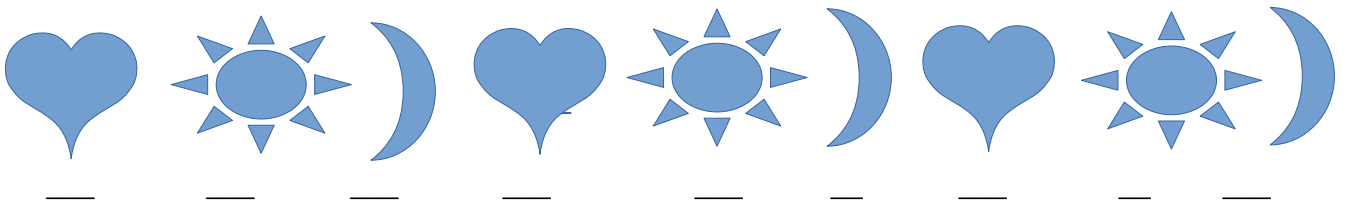



Αν η καρδούλα έχει αξία ίση με 5 και ο ήλιος με 10, ποια πρέπει να είναι η αξία του λουλουδιού για να γίνουν όλα 20;



Αν η καρδούλα έχει αξία ίση με 6, ο ήλιος με 10 και το φεγγάρι με 4, ποια είναι η αξία του μοτίβου;



Αν κάθε κουτί με ρίγες έχει αξία ίση με 1 ευρώ και κάθε κουτί με βουλίτσες έχει αξία 2 ευρώ, να βρεις πόσο κοστίζουν όλα τα δώρα μαζί.



Συμπληρώνω το αριθμητικό μοτίβο του 2

0	2	4		8			16		22			30		
---	---	---	--	---	--	--	----	--	----	--	--	----	--	--

Συμπληρώνω το αριθμητικό μοτίβο του 3

0	3	6			15				27		
---	---	---	--	--	----	--	--	--	----	--	--

Συμπληρώνω το αριθμητικό μοτίβο του 5

0	5		20			40				75		
---	---	--	----	--	--	----	--	--	--	----	--	--

Συμπληρώνω το αριθμητικό μοτίβο του 10

0		20			50						110
---	--	----	--	--	----	--	--	--	--	--	-----

Όνομα: _____ Επίθετο: _____

Ημερομηνία: _____