
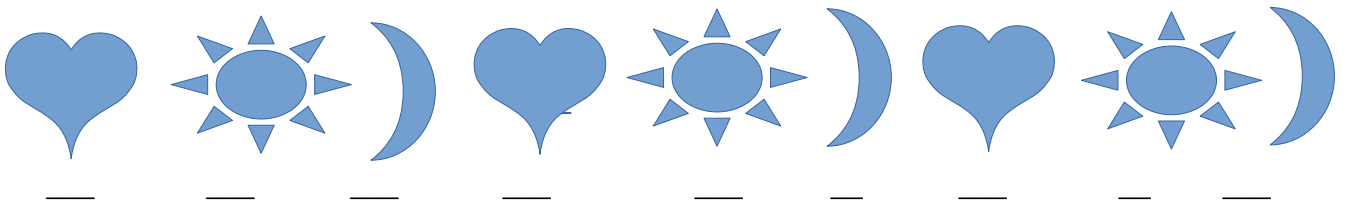



Αν η καρδούλα έχει αξία ίση με 50 και ο ήλιος με 20, ποια πρέπει να είναι η αξία του λουλουδιού για να γίνουν όλα 100;



Αν η καρδούλα έχει αξία ίση με 10, ο ήλιος με 5 και το φεγγάρι με 3, ποια είναι η αξία του μοτίβου;



Αν κάθε κουτί με ρίγες έχει αξία ίση με 2 ευρώ και κάθε κουτί με βουλίτσες έχει αξία 5 ευρώ, να βρεις πόσο κοστίζουν όλα τα δώρα μαζί.



Συμπληρώνω το αριθμητικό μοτίβο του 2

0	2			8					22			30			
---	---	--	--	---	--	--	--	--	----	--	--	----	--	--	--

Συμπληρώνω το αριθμητικό μοτίβο του 3

0	3					15								
---	---	--	--	--	--	----	--	--	--	--	--	--	--	--

Συμπληρώνω το αριθμητικό μοτίβο του 5

0	5			20			40							
---	---	--	--	----	--	--	----	--	--	--	--	--	--	--

Συμπληρώνω το αριθμητικό μοτίβο του 10

0		20			50								110
---	--	----	--	--	----	--	--	--	--	--	--	--	-----

Όνομα: \_\_\_\_\_ Επίθετο: \_\_\_\_\_

Ημερομηνία: \_\_\_\_\_