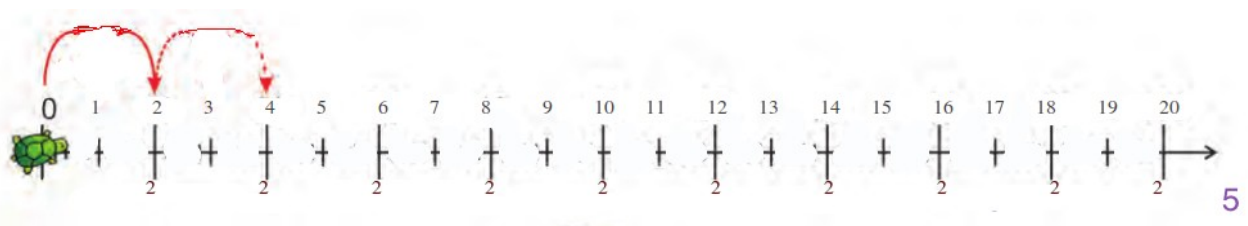


Η μικρή χελώνα προσπαθεί να μετακινηθεί προς το λιβάδι που έχει πολλά χόρτα. Σε κάθε βήμα της περνάει δύο αριθμούς.



Πόσα βήματα θα κάνει για να φτάσει στο 16;

---

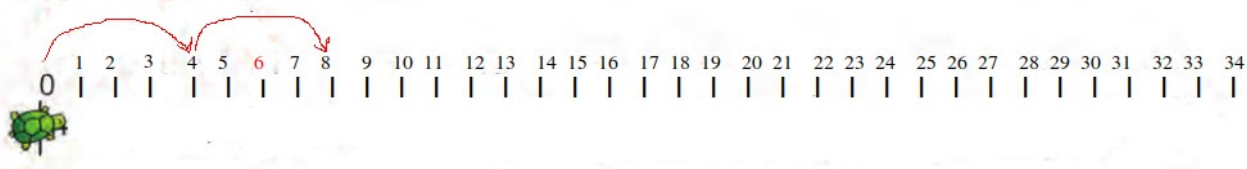
---

Πόσα βήματα θα κάνει για να φτάσει στο 32;

---

---

Η μικρή χελώνα προσπαθεί να μετακινηθεί προς το λιβάδι που έχει πολλά χόρτα. Σε κάθε βήμα της περνάει τέσσερις αριθμούς.



Πόσα βήματα θα κάνει για να φτάσει στο 16;

---

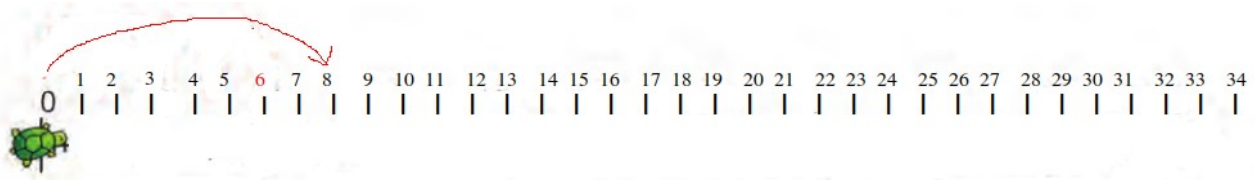
---

Πόσα βήματα θα κάνει για να φτάσει στο 32;

---

---

Η μικρή χελώνα προσπαθεί να μετακινηθεί προς το λιβάδι που έχει πολλά χόρτα. Σε κάθε βήμα της περνάει οκτώ αριθμούς.



Πόσα βήματα θα κάνει για να φτάσει στο 16;

---

---

Πόσα βήματα θα κάνει για να φτάσει στο 32;

---

---