











Όνομα _____
Επώνυμο _____
Ημ/νία _____

ΕΠΑΝΑΛΗΠΤΙΚΟ

1. Συμπληρώνω τους αριθμούς που λείπουν.

$(7 \times 10) - \dots$		$(7 \times 8) + \dots$
$(5 \times 11) + \dots$		$(6 \times 7) + \dots$
$(4 \times 10) - \dots$		$(3 \times 8) + \dots$
$(2 \times 11) + \dots$		$(2 \times 9) + \dots$

2. Υπολογίζω τα γινόμενα.

	$5 \times 7 = \dots$	$4 \times 4 = \dots$	
	$3 \times 6 = \dots$	$2 \times 9 = \dots$	
	$7 \times 3 = \dots$	$8 \times 2 = \dots$	
	$4 \times 3 = \dots$	$6 \times 6 = \dots$	

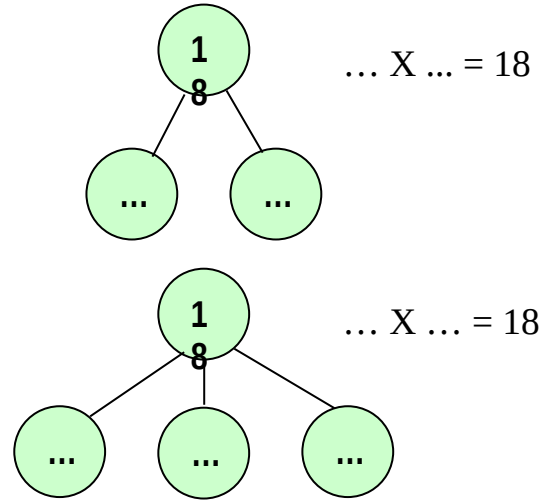
3. Με 18 τριαντάφυλλα πόσες ίδιες ανθοδέσμες μπορούμε να φτιάξουμε;
Προτείνω 2 διαφορετικούς τρόπους.



ΖΩΓΡΑΦΙΖΩ

Απάντηση:

.....
.....



4. Η  κάθε εβδομάδα



βάζει



Πόσα χρήματα θα έχει στον κουμπαρά της μετά από 18 εβδομάδες;

👉 **Εκτιμώ: Περίπου ... ευρώ**

👉 Συμπληρώνω τον πίνακα.

Εβδομάδες	1	10	8	20	18
Ευρώ	2

ΥΠΟΛΟΓΙΖΩ

... X ... = ... → ...

... X ... = ... → $\begin{array}{r} + \dots \\ \dots \end{array}$

Απάντηση:.....