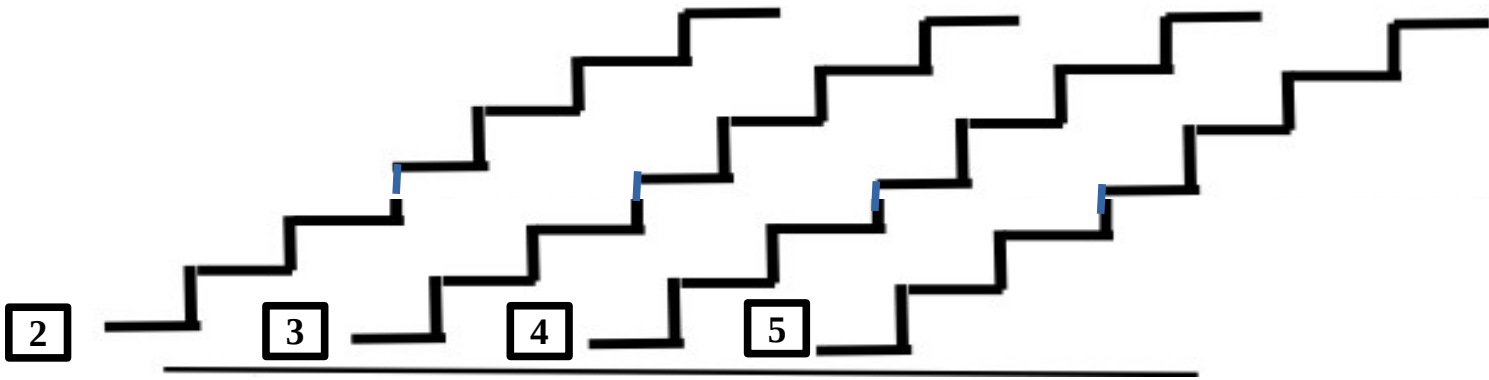
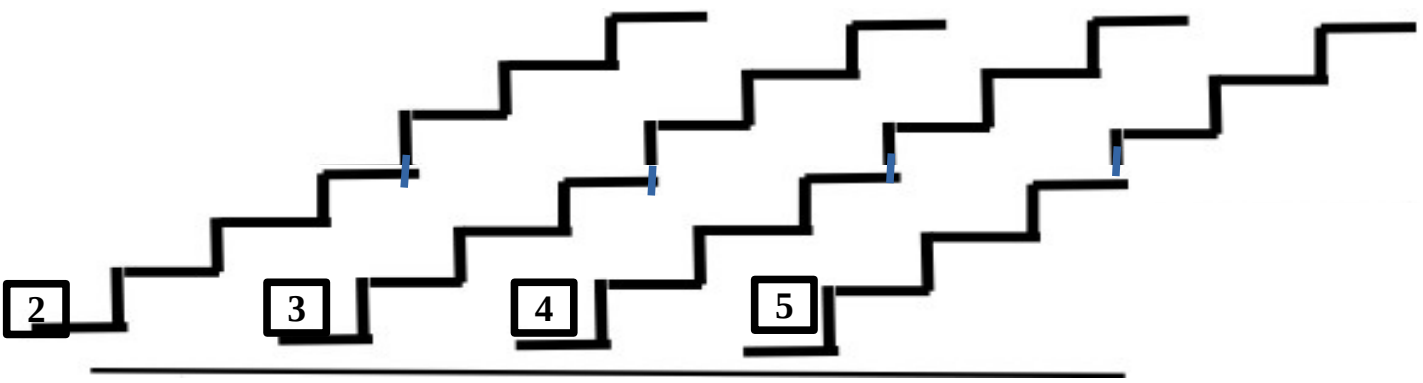


Ανεβαίνω τα σκαλιά σύμφωνα με τον αριθμό που βλέπω στη βάση τους.



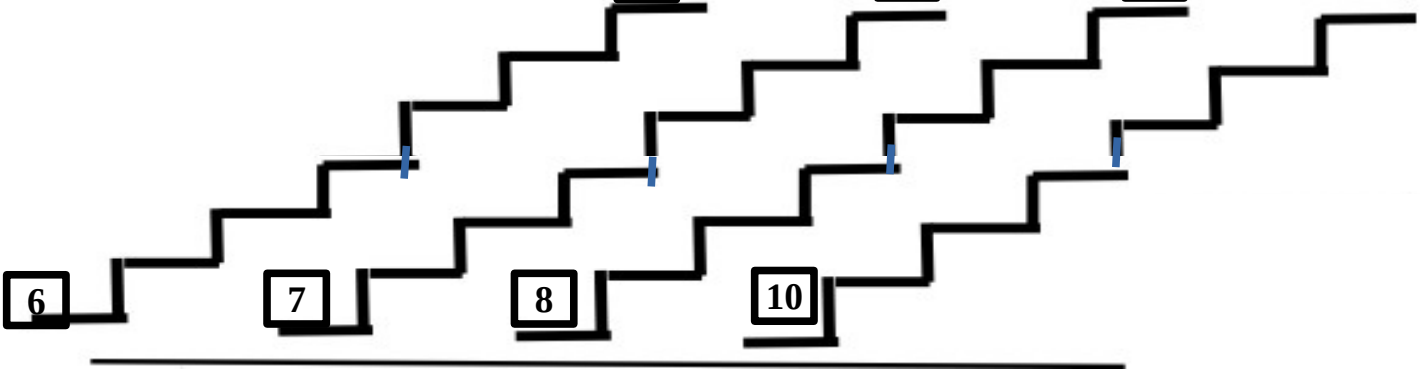
Κατεβαίνω τα σκαλιά σύμφωνα με τον αριθμό που βλέπω στη βάση τους.

14 21 28 35

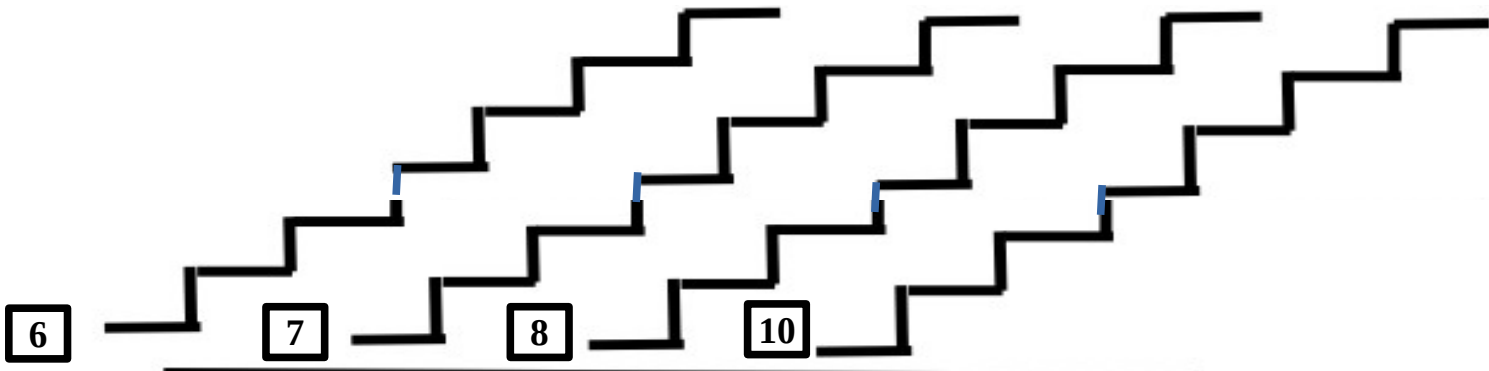


Κατεβαίνω τα σκαλιά σύμφωνα με τον αριθμό που βλέπω στη βάση τους.

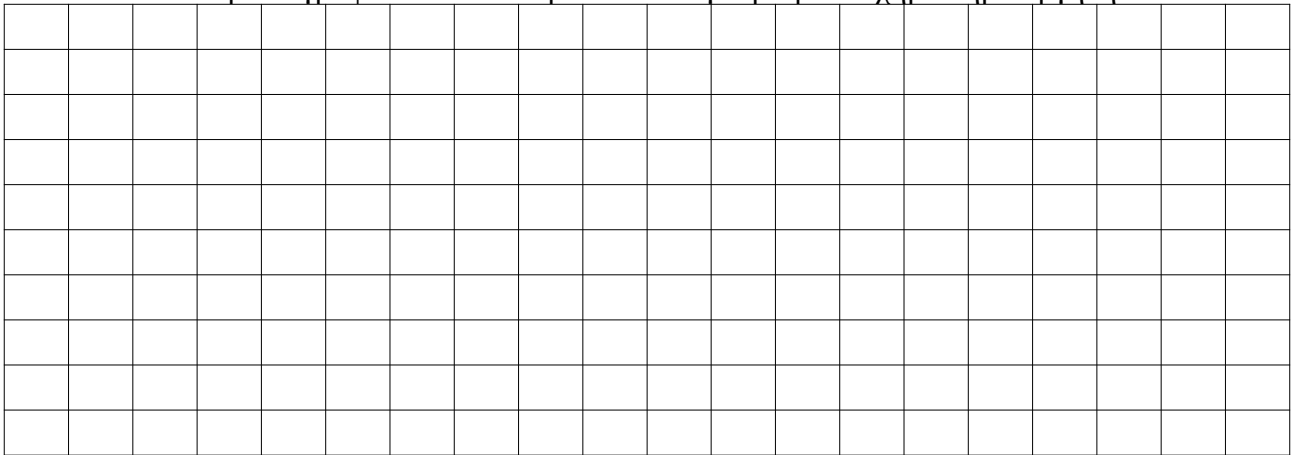
42 49 56 70



Ανεβαίνω τα σκαλιά σύμφωνα με τον αριθμό που βλέπω στη βάση τους.



Σχημάτισε στον πίνακα τα γινόμενα 2X2, 3X3, 3X6, 5X8 και 4X4 με όποια χρώματα σου αρέσουν. Κάτω από κάθε ομάδα γράψε το αποτέλεσμα και ποιο γεωμετρικό σχήμα δημιουργήθηκε.



Φτιάξε τα μαγικά δεντράκια των αριθμών 24 και 90 και συμπλήρωσε δίπλα τους τις σχέσεις μεταξύ των αριθμών που τα απαρτίζουν.

<input type="text"/> <input type="text"/> <input type="text"/> <input type="text"/>	<input type="text"/> <input type="text"/> <input type="text"/> <input type="text"/>	<input type="text"/> <input type="text"/> <input type="text"/> <input type="text"/>	<input type="text"/> <input type="text"/> <input type="text"/> <input type="text"/>	<input type="text"/> <input type="text"/> = <input type="text"/> X <input type="text"/>
<input type="text"/>	<input type="text"/>	<input type="text"/>	<input type="text"/>	<input type="text"/> <input type="text"/> = <input type="text"/> X <input type="text"/>
<input type="text"/>	<input type="text"/>	<input type="text"/>	<input type="text"/>	<input type="text"/> <input type="text"/> = <input type="text"/> X <input type="text"/>
<input type="text"/>	<input type="text"/>	<input type="text"/>	<input type="text"/>	<input type="text"/> <input type="text"/> = <input type="text"/> X <input type="text"/>
	<input type="text"/>			

<input type="text"/> <input type="text"/>	<input type="text"/> <input type="text"/>	<input type="text"/> <input type="text"/>	<input type="text"/> <input type="text"/> = <input type="text"/> X <input type="text"/>
<input type="text"/>	<input type="text"/>	<input type="text"/>	<input type="text"/> <input type="text"/> = <input type="text"/> X <input type="text"/>
	<input type="text"/>		<input type="text"/> <input type="text"/> = <input type="text"/> X <input type="text"/>

<input type="text"/> <input type="text"/> <input type="text"/> <input type="text"/> <input type="text"/> <input type="text"/> <input type="text"/> <input type="text"/> <input type="text"/> <input type="text"/> <input type="text"/> <input type="text"/>	<input type="text"/> <input type="text"/> = <input type="text"/> X <input type="text"/>
<input type="text"/>	<input type="text"/> <input type="text"/> = <input type="text"/> X <input type="text"/>
<input type="text"/>	<input type="text"/> <input type="text"/> = <input type="text"/> X <input type="text"/>