
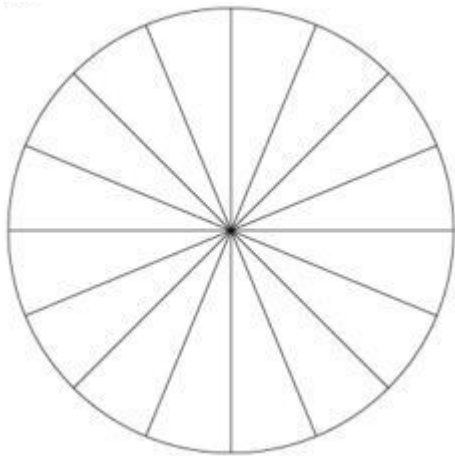


Συμπλήρωσε σε κάθε φύλλο του πρώτου δέντρου, όλους τους μήνες του χρόνου. Στη δεύτερη εικόνα συμπλήρωσε τις εποχές του έτους.



Η γιαγιά της Ελένης έφτιαξε μια νόστιμη πίτα για να μοιραστούν οι φίλες της Ελένης στη γιορτή της. Η Ελένη έκανε τους υπολογισμούς της για να βρει πόσα κομμάτια θα φάει η κάθε μία.

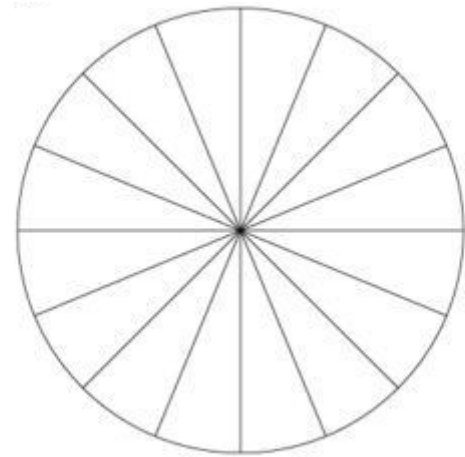


Στην αρχή τα κορίτσια ήταν μόνο 4.
Υπολόγισε με πράξεις:

16 κομμάτια μοιράζω σε 4 κορίτσια

Αργότερα ήρθαν κι άλλα κορίτσια κι έγιναν όλες 8. Υπολόγισε πάλι με πράξεις:

16 κομμάτια μοιράζω σε 8 κορίτσια



Αν σε βοηθάει, χρωμάτισε κάθε κομμάτι με ξεχωριστό χρώμα για κάθε κορίτσι. Αριστερά για τα τέσσερα κορίτσια ενώ δεξιά για τα 8 κορίτσια.

Ο Ανέστης είχε στην αποθήκη του σπιτιού τους 24 βόλους. Αποφάσισε να τους χαρίσει στην παρέα του. Όμως δυσκολευόταν να κάνει τη μοιρασιά. Βοήθησε τον να τα καταφέρει.

Σκέφτηκε πως αν τις μοίραζε στα 4 ξαδέρφια του, θα τους έδινε από _____ βόλους.

Αν τις μοίραζε στους 6 φίλους του από τη γειτονιά, θα τους έδινε από _____ βόλους.

Αν τις μοίραζε στα 8 αγόρια της τάξης του, θα τους έδινε από _____ βόλους.

Αν τις μοίραζε στα 12 παιδιά της τάξης του, θα τους έδινε από _____ βόλους.

Αν τις μοίραζε στα 3 παιδιά από το Αφγανιστάν, θα τα έδινε από _____ βόλους.

Μπορούσε να τους μοιράσει δίκαια στους 10 συμμαθητές του από το φροντιστήριο; _____

Όνομα: _____ Επίθετο: _____