

Συμπλήρωσε τους αριθμούς που λείπουν

1	2	3							
				15					
					26				
		33				37			
							48		
	52							59	

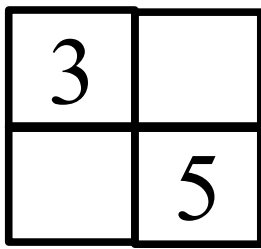
Βάψε τα βαγόνια του τρένου ώστε να δημιουργηθεί το δικό σου μοτίβο :



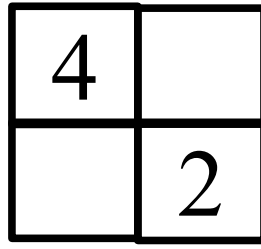
Σχεδιάζω γραμμές παρακάτω

Ευθεία γραμμή	<p>ευθεία γραμμή</p>	
Καμπύλη γραμμή	<p>καμπύλη</p>	
Γραμμή σαν πριόνι	<p>γραμμή σαν πριόνι</p>	
Ελατήριο - σούστα	<p>σούστα</p>	
Σαλιγκάρι	<p>το σαλιγκάρι</p>	

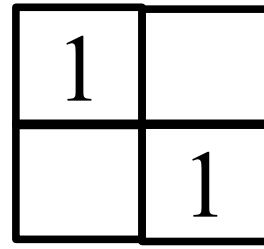
Συμπληρώνω για να γίνουν όλα δέκα
 Προσέχω να μην βάλω αυτά που απαγορεύονται!



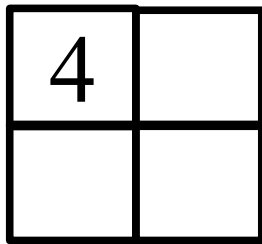
Όχι 0, 2



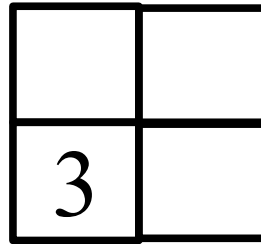
Όχι 0, 5



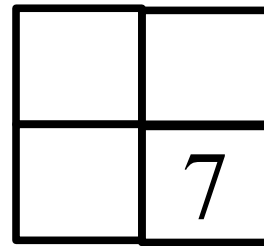
Όχι 0, 3



Όχι 0, 6




Όχι 0, 7



Όχι 0, 3

Γράφω τις προσθέσεις μέσα στο πρώτο βαγόνι ενώ τις αφαιρέσεις στο δεύτερο βαγόνι. Κατόπιν τις λύνω και γράφω το αποτέλεσμα



Στο πρώτο βαγόνι συγκεντρώνονται τα τούβλα του 10 ενώ στο δεύτερο βαγόνι τα τούβλα του 5



$2+3=5$ ά $5-2=3$
 ρ $5-3=2$
 α

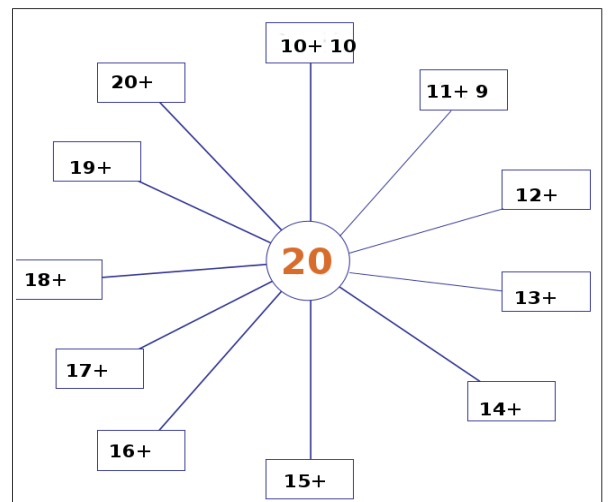
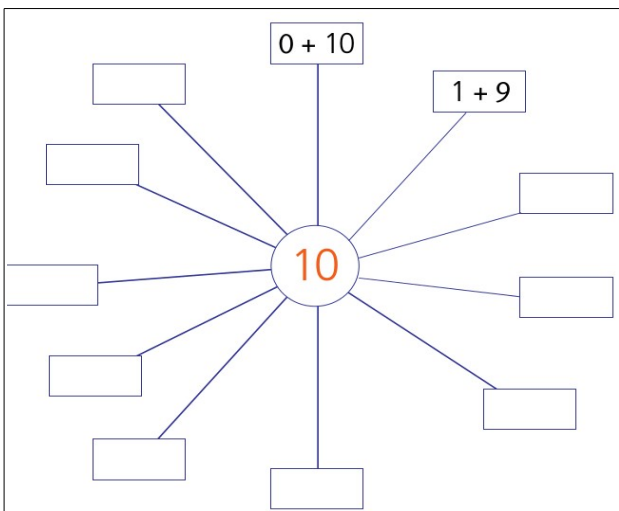
$4+3=$ ά $-3=$
 ρ $-4=$
 α

$4+3=$ ά $-3=$
 ρ $-4=$
 α

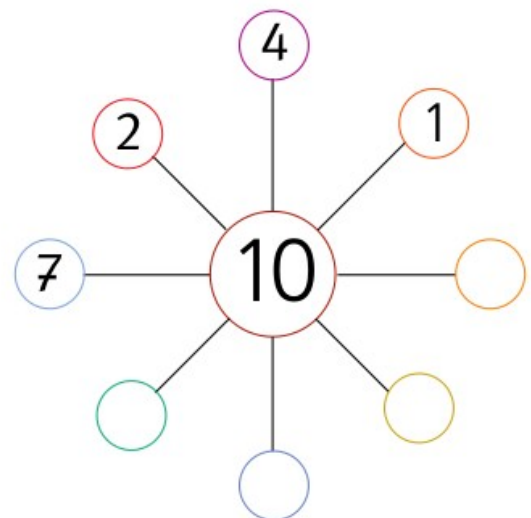
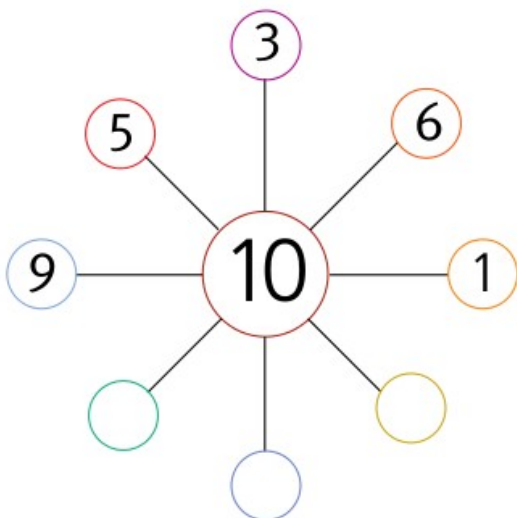
$3+2=$ ά $- =$
 ρ $- =$
 α

$2+1=$ ά $- 2 =$
 ρ $- 1 =$
 α

$5+2=$ ά $- =$
 ρ $- =$
 α



Συμπληρώνω τους αριθμούς που λείπουν.



Όνομα: _____ Επίθετο: _____