
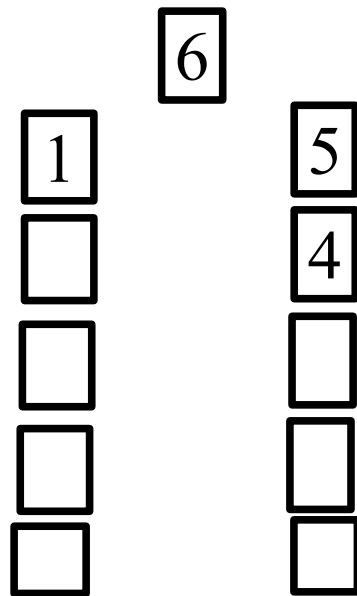
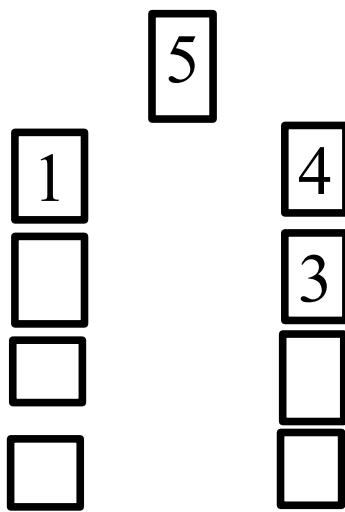
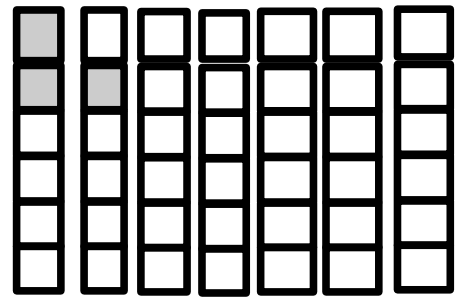
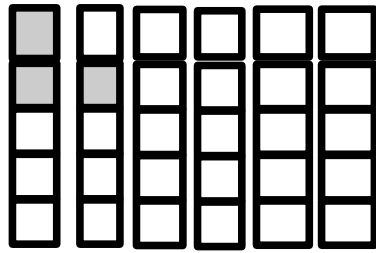
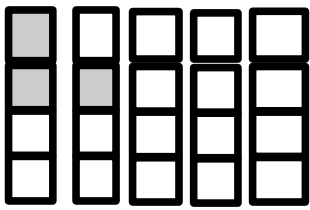


Μπορείς να αναλύσεις τους αριθμούς σε δύο διαφορετικά κομμάτια κάθε φορά; Προσπάθησε να το κάνεις παρακάτω. Αν σε βοηθάει βάψε τα κουτάκια των αριθμών.



Ζωγράφισε ένα τρένο πιο μακρύ και πιο ψηλό



Όνομα: _____