

Κάνε τους παρακάτω υπολογισμούς. Σε κάθε ομάδα πράξεων βρες τις αντίστροφες πράξεις όπως στο παράδειγμα

$2+3=5$ ά $5-2=3$
 ρ
 α $5-3=2$

$3+1=4$ ά $4-1=$
 ρ
 α $4-3=$

$4+2=$ ά $6-2=$
 ρ
 α $6-4=$

$4+3=$ ά $-3=$
 ρ
 α $-4=$

$4+1=$ ά $-1=$
 ρ
 α $-4=$

$5+2=$ ά $- =$
 ρ
 α $- =$


Λύσε τα παρακάτω προβλήματα αφού πρώτα τα διαβάσεις καλά

Έχω 5 € και αγοράζω μια σοκολάτα που κοστίζει 2 €. Πόσα ρέστα θα πάρω;



Γράφω την πράξη:

Έχω 10€ και αγοράζω μια σοκολάτα που κοστίζει 2 €. Πόσα ρέστα θα πάρω;



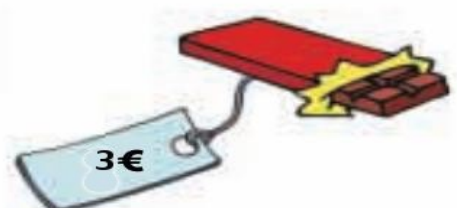
Γράφω την πράξη:

Έχω 5 € και αγοράζω μια σοκολάτα που κοστίζει 3€. Πόσα ρέστα θα πάρω;



Γράφω την πράξη:

Έχω 10€ και αγοράζω μια σοκολάτα που κοστίζει 3€. Πόσα ρέστα θα πάρω;



Γράφω την πράξη:

$9-1=$

$8-1=$

$3-1=$

$2-1=$

$7-1=$


$6-1=$

$4-1=$

$10-1=$

$5-1=$


$1-1=$




$5-2=$



$4-2=$



$4-1=$



$6-3=$




$6-2=$




$5-1=$




$3-2=$



$7-3=$



$9-2=$



$5-3=$

