



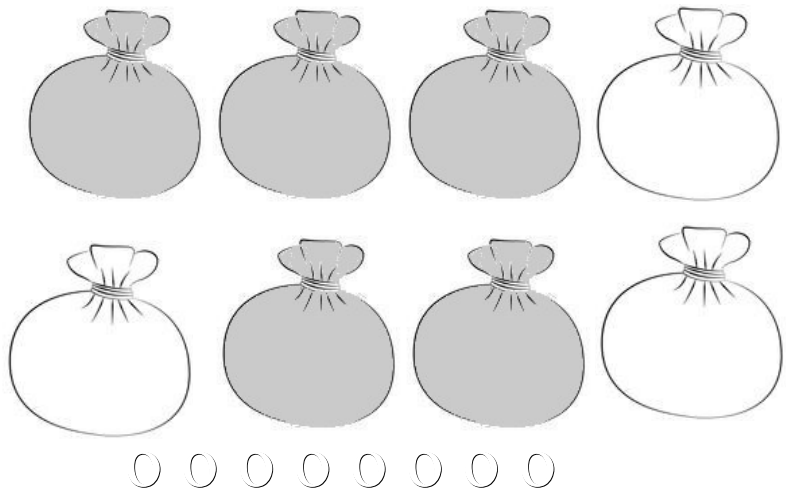
Μπορείς αν θέλεις να διαγράψεις δέκα κυκλάκια από το τετράγωνο και στη θέση τους να βάψεις ένα σακουλάκι κόκκινο. Ξανακάνε το ίδιο για να βάψεις κι άλλο σακουλάκι κόκκινο. Συνέχισε μέχρι να βάψεις όσα σακουλάκια γίνεται. Αν σου περισσέψουν κυκλάκια πάρε τα και βάλε τα κάτω από τα σακουλάκια.



Είναι όλα \_\_\_\_\_

Είναι όλα \_\_\_\_\_

Μπορείς αν θέλεις να ανοίξεις ένα σακουλάκι σκούρο και από μέσα να πάρεις δέκα κυκλάκια και να τα βάλεις στο τετράγωνο. Ξανακάνε το ίδιο για να βάλεις κι άλλα δέκα κυκλάκια στο τετράγωνο. Συνέχισε μέχρι να ανοίξεις όλα τα σακουλάκια. Έπειτα πάρε τα κυκλάκια που περισσεύουν και βάλε τα κάτω από τα υπόλοιπα στο τετράγωνο.






Είναι όλα \_\_\_\_\_

Είναι όλα \_\_\_\_\_

10+5	10+9	10+6	10+7	10+3	10+4
10+10+8	10+10+2	10+1+2+1	10+2+2+10	10+5	10+6
10+10+10+2	10+10+10	10+10+10+10+1+1+2=		10+10+3+1	10+10+1+4

Πόσα χρήματα που έχει μέσα στο κάθε κουτί;



Στο πρώτο κουτί έχει

Στο δεύτερο κουτί έχει

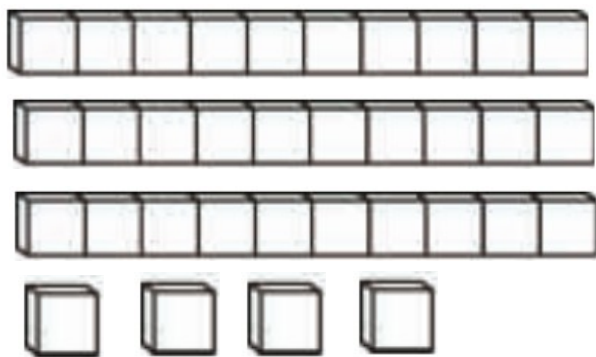
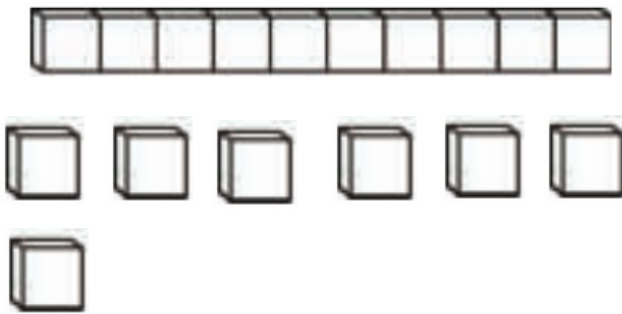
Στο τρίτο κουτί έχει

\_\_\_\_\_

\_\_\_\_\_


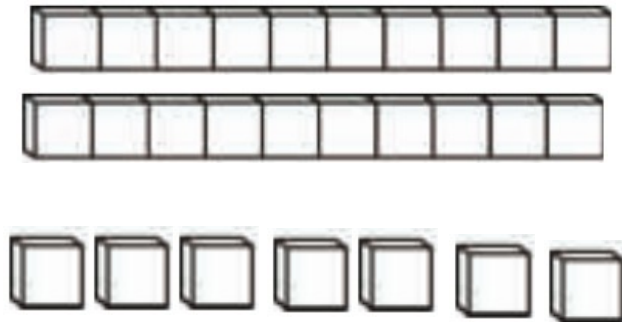
\_\_\_\_\_

Πόσα είναι όλα;



Είναι: \_\_\_\_\_

Είναι: \_\_\_\_\_



Είναι: \_\_\_\_\_

Είναι: \_\_\_\_\_

$10+10+1+2$	$10+10+10+10+10+2+2+1+1$	$1+1+1+1+10$
$10+5+5+5$	$1+1+1+1+1+10+10+10+10$	$10+10+1$
$10+1+1+1+1+1$	$10+10+2+2+2+2+10+10$	$1+10+10+10$

Όνομα: \_\_\_\_\_ Επίθετο: \_\_\_\_\_