


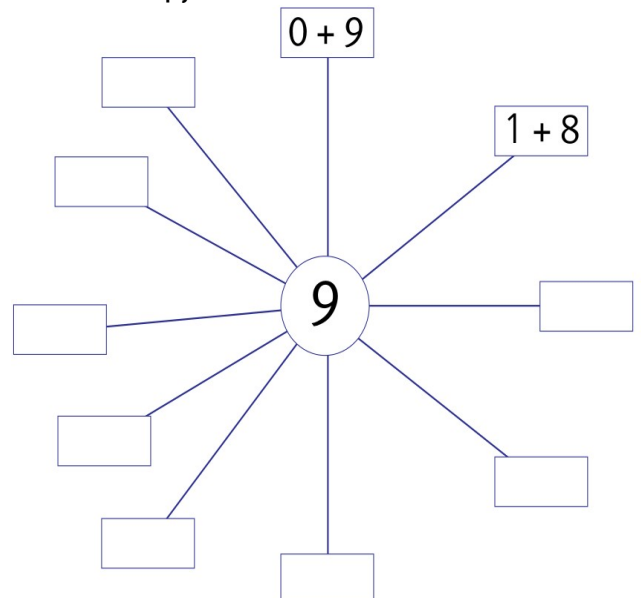
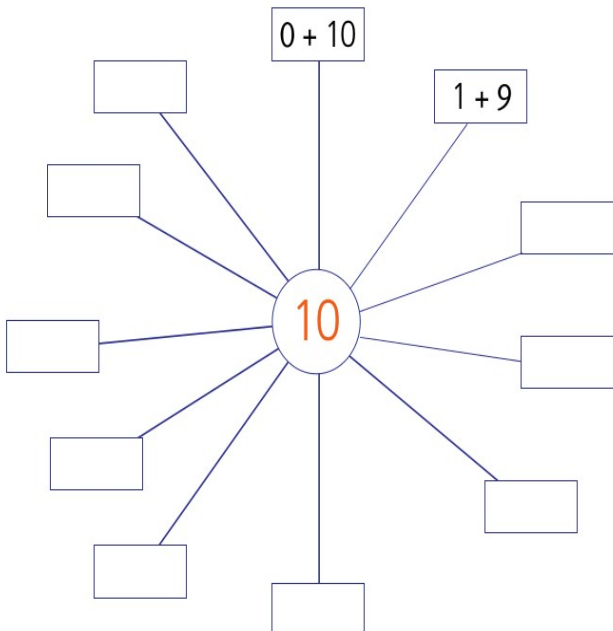
Τα παιδιά παίζουν φιδάκι. Ποιος απ' όλους θα περπατήσει περισσότερο; Δες ποια ζάρια φέρανε και απάντησε. Νικητ __ είναι _____



Ο μηχανοδηγός του τρένου ξέχασε να δηλώσει τον επιβάτη του. Βοήθησέ τον να το κάνει βάζοντας το σωστό γράμμα σε κάθε βαγόνι του τρένου: Στο 1ο και 3ο βαγόνι το γράμμα τ, στο 2ο και στο 4ο βαγόνι το γράμμα ι, στο 5ο βαγόνι το γράμμα ν και στο 6ο βαγόνι το γράμμα α. (Η μηχανή δεν πιάνεται. Μην ξεχάσεις να βάλεις τόνο!) _____



Χρωμάτισε με πορτοκαλί χρώμα τη δεύτερη 2η, την τέταρτη 4η, την έκτη 6η, την όγδοη 8η και τη δέκατη 10η κοιλιά της Κάμπιας. Κατόπιν χρωμάτισε με καφέ την πρώτη 1η, με κίτρινο την τρίτη 3η, με πράσινο την πέμπτη 5η, με κόκκινο την έβδομη και με ροζ την ένατη κοιλιά της.



Όνομα: _____



$$\square + \square = \square$$



$$\square + \square = \square$$



$$\square + \square = \square$$

Πάμε για ψώνια; Ποιο παιχνίδι μπορεί να αγοράσει η Μαρία με τα χρήματα που έχει;



9 €



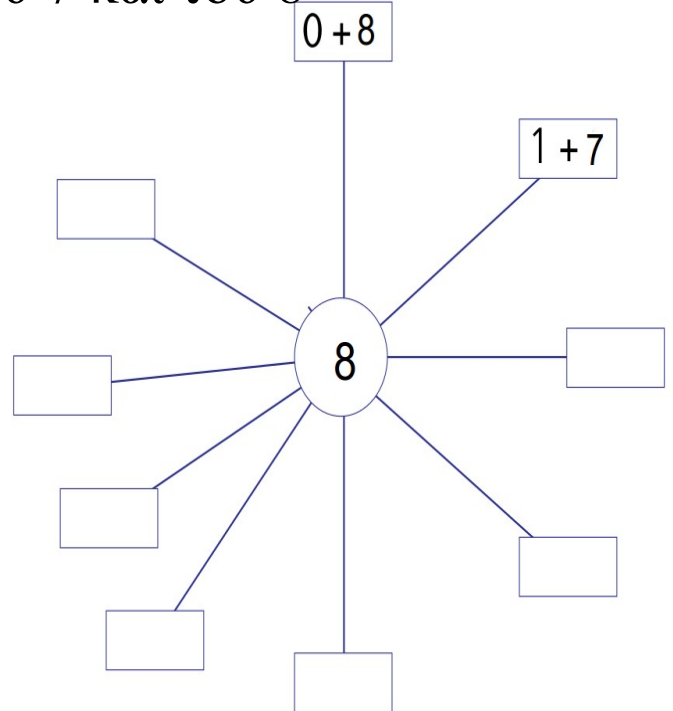
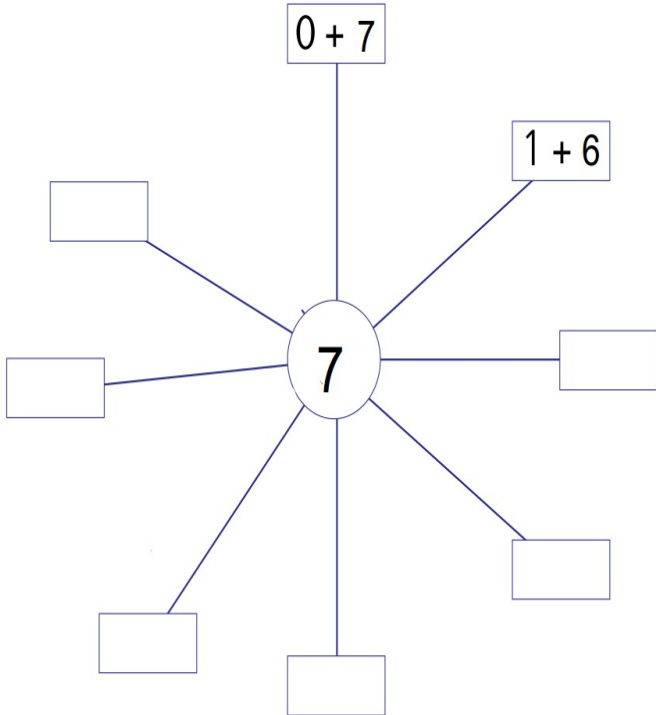
8 €



10 €



Συμπλήρωσε τους άξονες του 7 και του 8



Όνομα: _____