


# Ο ΧΑΡΤΗΣ ΤΗΣ ΠΕΡΙΟΧΗΣ ΜΟΥ



Πρέπει να μεταφέρεις τα παρακάτω σχήματα στον μεγάλο χάρτη ώστε να σχηματίσεις τον χάρτη της περιοχής σου. Ένωσε αυτά που ταιριάζουν μεταξύ τους.

**ΔΡΟΜΟΣ** Μήκος 15 πλάτος 2


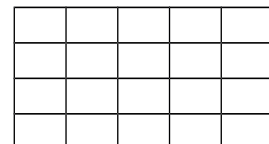
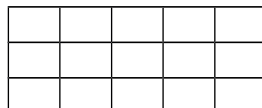
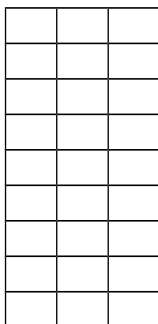
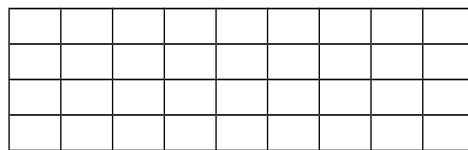
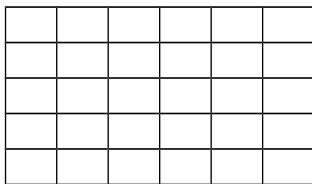
**ΚΑΤΑΣΤΗΜΑ** Μήκος 5 πλάτος 3

**ΕΚΚΛΗΣΙΑ** Μήκος 5 πλάτος 4

**ΔΗΜΑΡΧΕΙΟ** Μήκος 9 πλάτος 3

**ΣΧΟΛΕΙΟ** Μήκος 6 πλάτος 5

**ΣΤΑΔΙΟ** Μήκος 9 πλάτος 4



Όνομα: \_\_\_\_\_ Επίθετο: \_\_\_\_\_