

Λύσε τις παρακάτω ασκήσεις όπως στο παράδειγμα:

6		+	7		=	□	6		+	8		=	□
5	3		5	2			5	1		5	3		

6		+	9		=	□	7		+	6		=	□

7		+	7		=	□	7		+	8		=	□

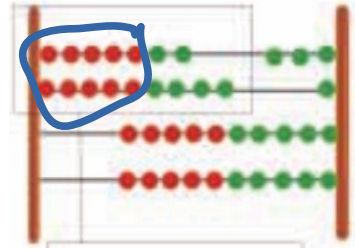
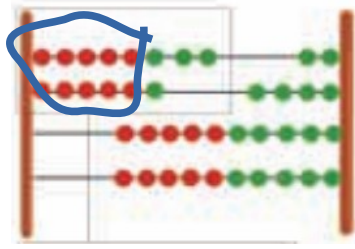
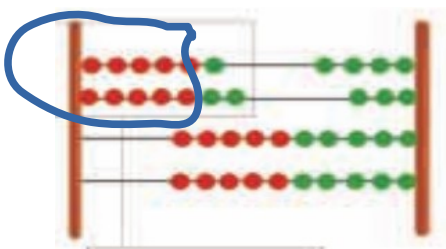
7		+	9		=	□	8		+	6		=	□

8		+	7		=	□	8		+	8		=	□

8		+	9		=	□	9		+	6		=	□

9		+	7		=	□	9		+	8		=	□

9		+	9		=	□	9		+	10		=	□



1	2	3	4	5	6	7	8	9	10	11	12	13	14
Ποια λύση είναι ευκολότερη; Να ανέβω μέχρι το 13 ή να κατέβω μέχρι το 8; Πόσα σκαλιά κάθε φορά;													
1	2	3	4	5	6	7	8	9	10	11	12	13	14
Ποια λύση είναι ευκολότερη; Να ανέβω μέχρι το 14 ή να κατέβω μέχρι το 9; Πόσα σκαλιά κάθε φορά;													

8	=	5	+	
6	=			
7	=			
9	=			

7	=	5	+	
9	=			
6	=			
8	=			

10	+	1	=	
10	+	2	=	
10	+	3	=	
10	+	4	=	
10	+	5	=	
10	+	6	=	
10	+	7	=	
10	+	8	=	
10	+	9	=	
10	+	10	=	
30	+	10	=	
50	+	10	=	
20	+	6	=	
40	+	7	=	

20	+	1	=	
30	+	2	=	
40	+	3	=	
50	+	4	=	
30	+	5	=	
20	+	6	=	
40	+	7	=	
50	+	8	=	
20	+	9	=	
20	+	10	=	
40	+	10	=	
50	+	8	=	
30	+	5	=	
10	+	9	=	

Όνομα: _____ Επίθετο: _____