

Όνομα: \_\_\_\_\_









Συμπλήρωσε όποιον αριθμό θέλεις στα κενά αρκεί να ταιριάζει το σύμβολο της ανισότητας που υπάρχει δίπλα του

$$\begin{array}{ccc} \_ < 10 < \_ & \_ < 9 < \_ \\ \_ < 8 < \_ & \_ < 7 < \_ \\ \_ < 6 < \_ & \_ < 5 < \_ \end{array}$$

Ξαναγράψω τις λέξεις που αντιπροσωπεύουν τους αριθμούς

<input type="text" value="1"/> ένα	<input type="text" value="2"/> δύο	<input type="text" value="3"/> τρία
<input type="text" value="1"/> _ _ _	<input type="text" value="2"/> _ _ _	<input type="text" value="3"/> _ _ _ _
<input type="text" value="4"/> τέσσερα	<input type="text" value="5"/> πέντε	
<input type="text" value="4"/> _ _ _ _ _	<input type="text" value="5"/> _ _ _ _ _	

Γράψω για κάθε ομάδα τον αριθμό που της ταιριάζει και συμπληρώνω ανάμεσα στους αριθμούς το σύμβολο που πρέπει

			
<input type="text"/> <input type="text"/> <input type="text"/>	<input type="text"/> <input type="text"/> <input type="text"/>	<input type="text"/> <input type="text"/> <input type="text"/>	<input type="text"/> <input type="text"/> <input type="text"/>
			
<input type="text"/> <input type="text"/> <input type="text"/>	<input type="text"/> <input type="text"/> <input type="text"/>	<input type="text"/> <input type="text"/> <input type="text"/>	<input type="text"/> <input type="text"/> <input type="text"/>