


Υπέρβαση της δεκάδας

Αν το καλάθι περιέχει **8** μήλα πόσα γίνονται μαζί με τα άλλα **5** μήλα της μηλιάς;



8 μήλα




$$8+2=10 \quad 10+3=13$$

$$\text{άρα } 8+5=13$$

Αν το καλάθι περιέχει **9** μήλα πόσα γίνονται μαζί με τα άλλα **5** μήλα της μηλιάς;



9 μήλα




$$9+ \quad =10 \quad 10+ \quad =$$

$$\text{άρα } 9+5=$$

Αν το καλάθι περιέχει **7** μήλα πόσα γίνονται μαζί με τα άλλα **5** μήλα της μηλιάς;



7 μήλα



$$7+ \quad =10 \quad 10+ \quad =$$

$$\text{άρα } 7+5=$$

Κάνε κι εσύ τα ίδια βήματα ακριβώς για να βρεις το αποτέλεσμα ευκολότερα.

- **Κύκλωσε 10 μήλα (από το καλάθι και το δέντρο μαζί)**
- **Βάλε και τα υπόλοιπα πάνω στα 10 που κύκλωσες**
 - **Συμπλήρωσε τις προσθέσεις στο πλάι**

Ο Ανδρέας έχει στο πορτοφόλι του 6 ευρώ. Η μαμά του του έδωσε άλλα 5 ευρώ. Πόσα είναι τώρα τα χρήματά του;



6 ευρώ




$$6 + 4 = 10$$

$$10 + 1 = 11$$

άρα $6 + 5 = 11$

Ο Ανδρέας έχει στο πορτοφόλι του 7 ευρώ. Η μαμά του του έδωσε άλλα 5 ευρώ. Πόσα είναι τώρα τα χρήματά του;



7 ευρώ



$$7 + \quad = 10$$

$$10 + \quad =$$

άρα $7 + 5 =$

Ο Ανδρέας έχει στο πορτοφόλι του 8 ευρώ. Η μαμά του του έδωσε άλλα 5 ευρώ. Πόσα είναι τώρα τα χρήματά του;



8 ευρώ



$$+ \quad = 10$$

$$10 + \quad =$$

άρα $+ 5 =$

Κάνε κι εσύ τα ίδια βήματα ακριβώς για να βρεις το αποτέλεσμα ευκολότερα.

- Κύκλωσε 10 ευρώ (από το πορτοφόλι και της μαμάς μαζί)
- Βάλε και τα υπόλοιπα πάνω στα 10 που κύκλωσες
- Συμπλήρωσε τις προσθέσεις στο πλάι

Όνομα _____ Επίθετο: _____