

Συμπλήρωσε τις αριθμογραμμές παρακάτω:

1				5					10
---	--	--	--	---	--	--	--	--	----

11				15					20
----	--	--	--	----	--	--	--	--	----

21				25					30
----	--	--	--	----	--	--	--	--	----

31				35					40
----	--	--	--	----	--	--	--	--	----

41				45					50
----	--	--	--	----	--	--	--	--	----

9	10								
---	----	--	--	--	--	--	--	--	--

19	0								
----	---	--	--	--	--	--	--	--	--

$$\boxed{9} + \boxed{} = \boxed{10}$$

$$\boxed{8} + \boxed{} = \boxed{10}$$

$$\boxed{7} + \boxed{} = \boxed{10}$$

$$\boxed{6} + \boxed{} = \boxed{10}$$

$$\boxed{5} + \boxed{} = \boxed{10}$$

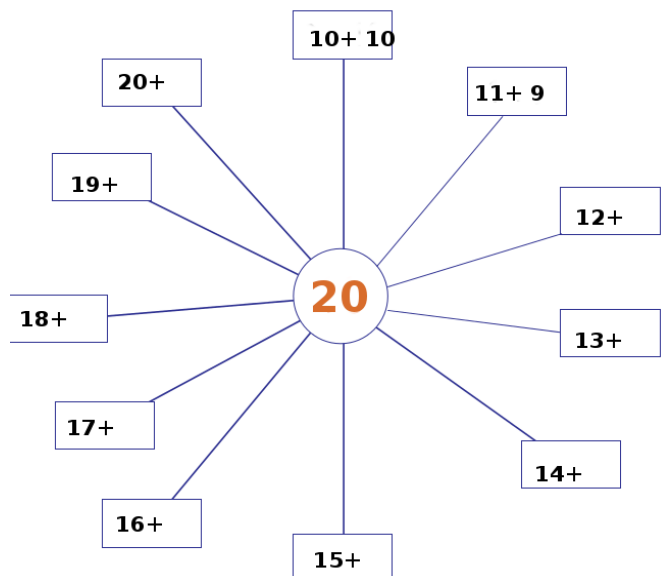
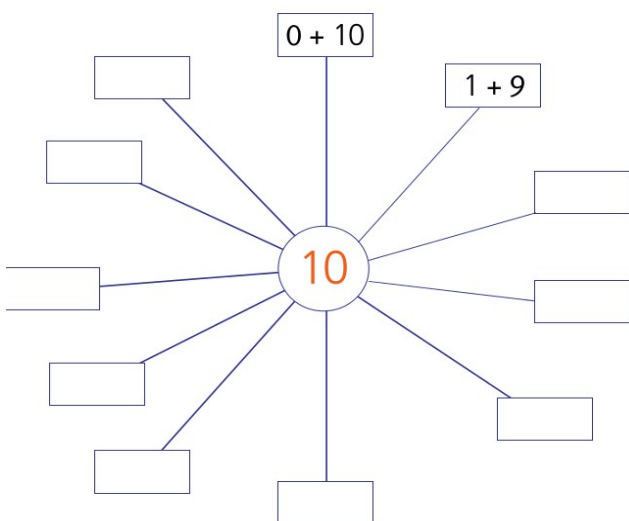
$$\boxed{1} + \boxed{}$$

$$\boxed{2} + \boxed{}$$


$$\boxed{3} + \boxed{}$$

$$\boxed{4} + \boxed{}$$


$$\boxed{5} + \boxed{}$$



Κάνουμε κάθετα τις πράξεις παρακάτω



Βάψτε με κόκκινο το πρώτο, το τρίτο και το πέμπτο παιδάκι
Βάψτε με γαλάζιο το δεύτερο, το τέταρτο και το έκτο παιδάκι.



Βάψτε με πράσινο το έβδομο και το ένατο παιδάκι.
Βάψτε με καφέ το όγδοο και το δέκατο παιδάκι.

Όνομα: _____ Επώνυμο: _____

