

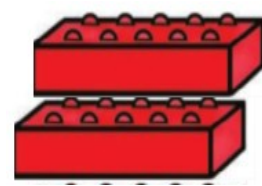


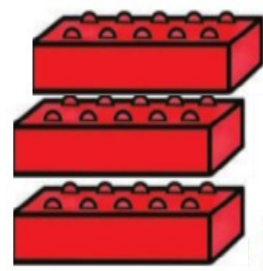
Γράψε στα πινακάκια των αριθμών τις δεκάδες και τις μονάδες που τους χαρακτηρίζουν  
Από κάτω γράψε τον ολόκληρο τον αριθμό.



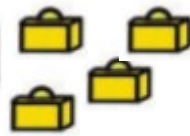
Δ	Μ



Δ	Μ



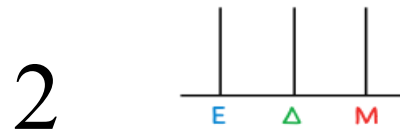
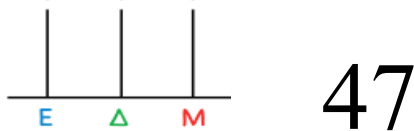
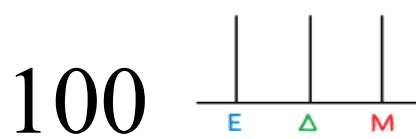
Δ	Μ



Δ	Μ



Βάψε σε κάθε άβακα που βλέπεις τα στοιχεία των αριθμών που αναγράφονται δίπλα του (με κόκκινο οι μονάδες, πράσινο οι δεκάδες και γαλάζιο οι εκατοντάδες)



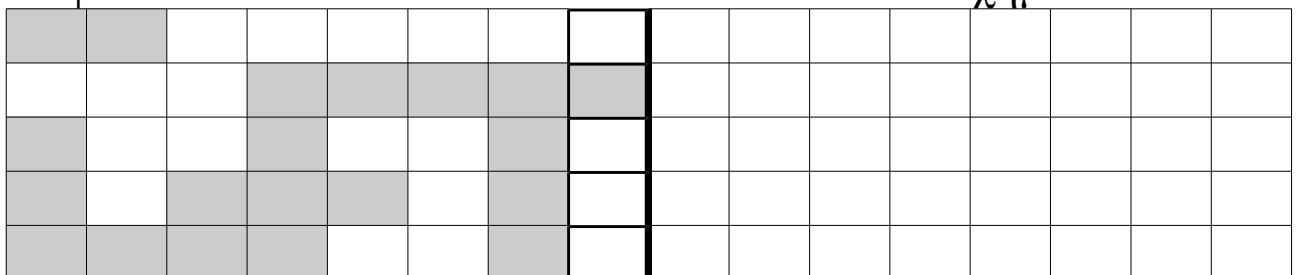
Βάψω με πορτοκαλί όσους αριθμούς είναι μικρότεροι από 20 και με πράσινο όσους είναι μεγαλύτεροι από 20

6+8
16+8
6+13
25-6
30-30
50-40
100-20

60-41
60+8
30-8
30-20

32-10
30-8
100-90

Βάψε τα κουτάκια έτσι ώστε να διπλασιαστεί το σχήμα



Όνομα: