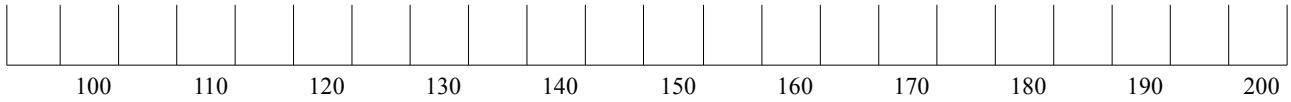
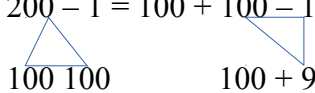


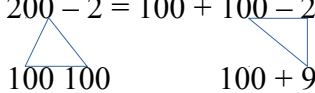
Τοποθέτησε στην αριθμογραμμή τους αριθμούς: 185, 191, 102, 127, 138, 172, 155, 149

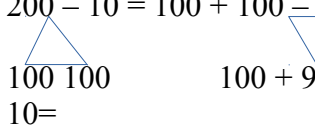


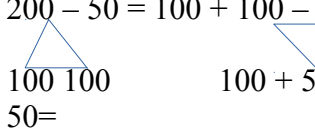
Βάλε το σύμβολο της ανισότητας που ταιριάζει σε κάθε ζευγάρι αριθμών

401		399	899		910	307		301	789		599
401+20		399+30	899+50		910	250+60		301	789		599+280
800-20		760+20	899+50		1000-9	250+60		300-50	900-100		599+201
800-200		700-100	900+50		1000-55	500+60		300-150	750-100		900-201

$200 - 1 = 100 + 100 - 1$ $300 - 1 =$ $400 - 1 =$ $500 - 1 =$ $600 - 1 =$

 $100 + 99 = 199$ $700 - 1 =$ $800 - 1 =$ $900 - 1 =$ $1000 - 1 =$

$200 - 2 = 100 + 100 - 2$ $300 - 2 =$ $400 - 2 =$ $500 - 2 =$ $600 - 2 =$

 $100 + 98 = 198$ $700 - 2 =$ $800 - 2 =$ $900 - 12 =$ $1000 - 2 =$

$200 - 10 = 100 + 100 - 10$ $300 - 10 =$ $400 - 10 =$ $500 - 10 =$ $600 - 10 =$

 $100 + 90 = 190$ $700 - 10 =$ $800 - 10 =$ $900 - 10 =$ $1000 -$
 $10 =$

$200 - 50 = 100 + 100 - 50$ $300 - 50 =$ $400 - 50 =$ $500 - 50 =$ $600 - 50 =$

 $100 + 50 = 150$ $700 - 50 =$ $800 - 50 =$ $900 - 50 =$ $1000 -$
 $50 =$

Γράψε δίπλα σε κάθε αριθμό έναν ακόμη που είναι μικρότερος κατά 2

501		600		701		800	
-----	--	-----	--	-----	--	-----	--

Γράψε δίπλα σε κάθε αριθμό έναν ακόμη που είναι μικρότερος κατά 10

501		600		701		800	
-----	--	-----	--	-----	--	-----	--

Γράψε δίπλα σε κάθε αριθμό έναν ακόμη που είναι μεγαλύτερος κατά 100

501		600		701		800	
-----	--	-----	--	-----	--	-----	--

Γράψε δίπλα σε κάθε αριθμό έναν ακόμη που είναι μεγαλύτερος κατά 199

501		601		701		801	
-----	--	-----	--	-----	--	-----	--

Όνομα: _____