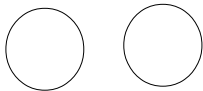


Συμπλήρωσε την παρακάτω αριθμογραμμή:

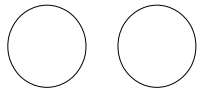
	15		35		55		75		95
2		22		42		62			
	8		98						
4									
		26					76		
	13							83	

Βρες το μισό των παρακάτω ποσοτήτων:

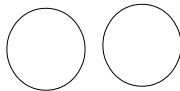
14



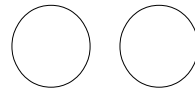
8



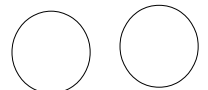
12



10



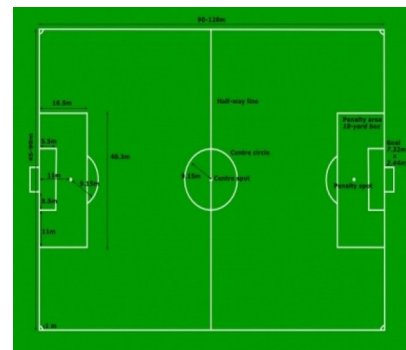
16



Μέτρησε την απόσταση από το σπίτι στην εκκλησία: Είναι \_\_\_εκ.



Μέτρησε την απόσταση από την εκκλησία στο γήπεδο Είναι \_\_\_\_\_εκ.  
Μέτρησε την απόσταση από το σπίτι στο γήπεδο. Είναι \_\_\_\_\_εκ



Όνομα \_\_\_\_\_ Ημερομηνία \_\_\_\_\_