





Αν η αξία της φράουλας είναι 8 και του τριαντάφυλλου 12 τότε προσπάθησε να βρεις την αξία όλου του μοτίβου:

	
8	12

Υπολογίζω:+.....+.....+.....+.....+.....+.....+.....+.....+.....+.....=



Συμπληρώνω τους αριθμούς που λείπουν ώστε να συμπληρωθεί το δεντροδιάγραμμα του 100 του 80 και του 40:



$100 = \dots \times 50$ $80 = \dots \times 20$ $80 = \dots \times \dots$ $40 = \dots \times 20$ $40 = \dots \times \dots$
 $100 = \dots \times 25$ $80 = \dots \times \dots$ $40 = \dots \times \dots$

Πόση απόσταση θα διανύσει το σαλιγκαράκι για να φτάσει στο φύλλο;



Πόση απόσταση θα διανύσει το σαλιγκαράκι για να φτάσει στο φύλλο;



Πόση απόσταση θα διανύσει το σαλιγκαράκι για να φτάσει στο φύλλο;



Πόση απόσταση θα διανύσει το σαλιγκαράκι για να φτάσει στο φύλλο;



Πόση απόσταση θα διανύσει το σαλιγκαράκι για να φτάσει στο φύλλο;



Πόση απόσταση θα διανύσει το σαλιγκαράκι για να φτάσει στο φύλλο;



Πόση απόσταση θα διανύσει το σαλιγκαράκι για να φτάσει στο φύλλο;

