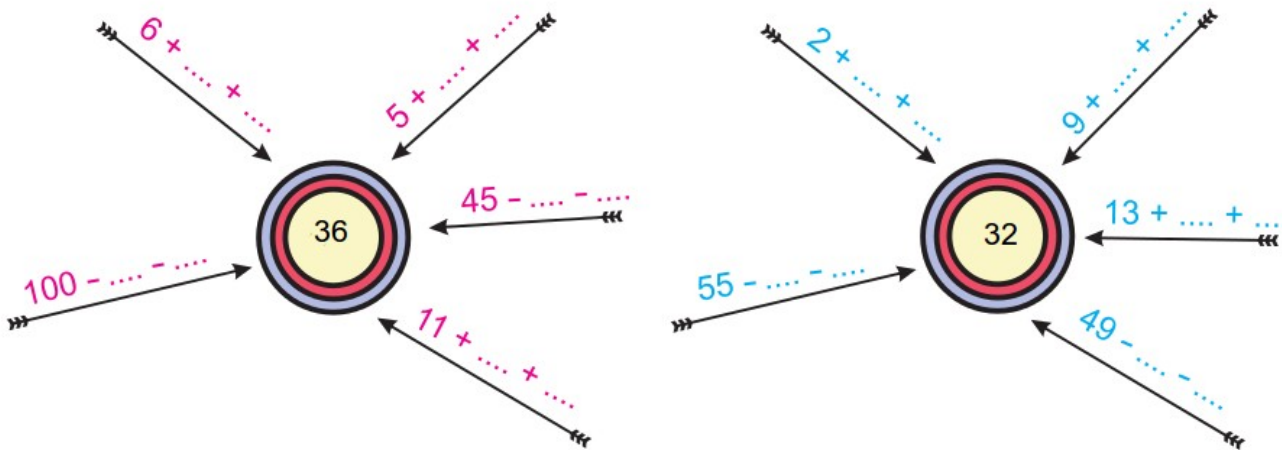




Προσπάθησε να βρεις πόσα παιχνίδια μας λείπουν για να συμπληρώσουμε 100

ΠΑΙΧΝΙΔΙΑ	ΕΧΟΥΜΕ	ΛΕΙΠΟΥΝ	ΣΥΝΟΛΟ
Αυτοκινητάκια	28 (περίπου)	(περίπου)	100
Κούκλες	36 (περίπου)	(περίπου)	100
Κάστρο	79 (περίπου)	(περίπου)	100
Μονόπολη	68 (περίπου)	(περίπου)	100
Lego	46 (περίπου)	(περίπου)	100
Σκυλάκι	38 (περίπου)	(περίπου)	100
Βατραχάκια	26 (περίπου)	(περίπου)	100


Συμπλήρωσε τα κενά στους αριθμούς στόχους



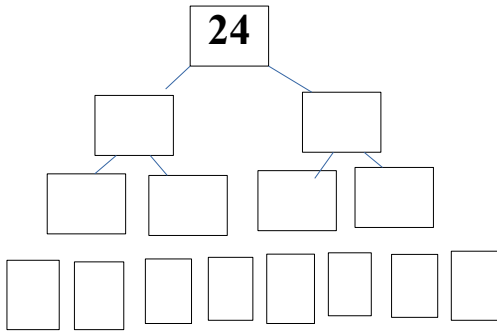
Αν η αξία της πασχαλίτσας είναι 9 και του σπουργιτιού 11 τότε προσπάθησε να βρεις την αξία όλου του μοτίβου:

	
9	11

Υπολογίζω:+.....+.....+.....+.....+.....+.....+.....+.....+.....=



Φτιάχνω το δέντρακι του 24 :

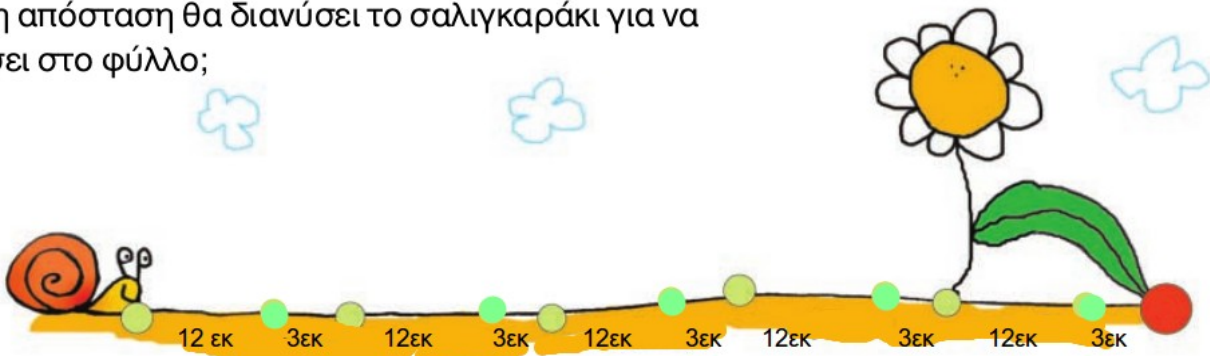


___ + ___ ή ___ X ___ 2 φορές το

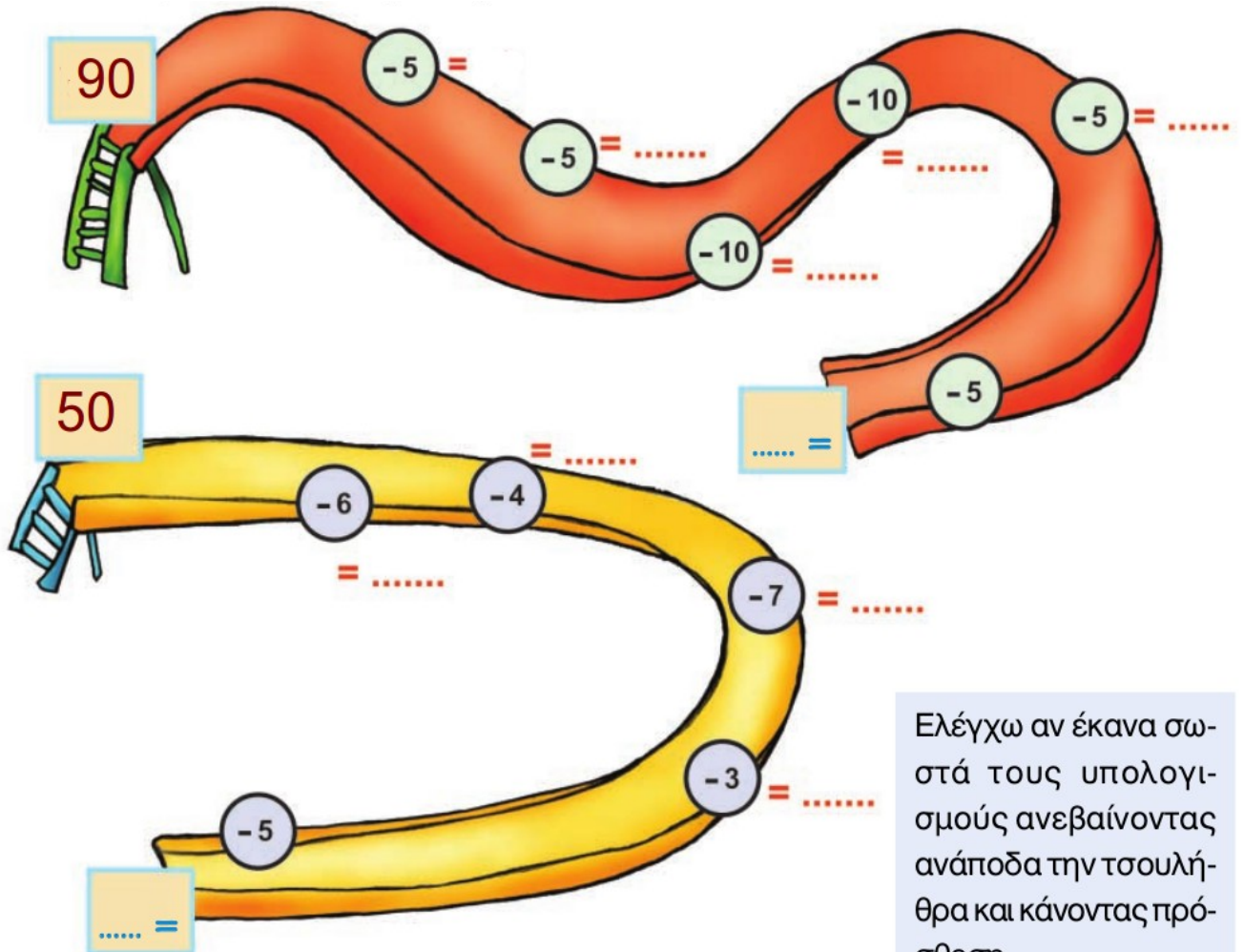
___ + ___ + ___ + ___ ή ___ X ___ 4 φορές το

___ + ___ + ___ + ___ + ___ + ___ + ___ + ___ ή ___ X ___ 8 φορές το

Πόση απόσταση θα διανύσει το σαλιγκαράκι για να φτάσει στο φύλλο;



Κατεβαίνω την τσουλήθρα κάνοντας πράξεις



Ελέγχω αν έκανα σωστά τους υπολογισμούς ανεβαίνοντας ανάποδα την τσουλήθρα και κάνοντας πρόσθεση.

Όνομα:

Επίθετο: