

## Συμπλήρωσε τους πίνακες προπαίδειας παρακάτω

Προπαίδεια του 4 (ανεβαίνω κάθε φορά 4)

	+4	+4	+4	+4	+4	+4	+4	+4	+4	+4	+4
<b>0</b>	<b>4</b>										

Προπαίδεια του 7 (συμπληρώνω πρώτα τα διπλάσια- με έντονο χρώμα)

Φορές	1	2	3	4	5	6	7	8	9	10	11
<b>0</b>	<b>7</b>										

## Συμπλήρωσε τα κενά στον παρακάτω πίνακα

Κάθε εποχή έχει ..... μήνες.	Πόσοι μήνες θα περάσουν από το Φθινόπωρο μέχρι και την Άνοιξη; _____ Πόσοι μήνες θα περάσουν από το Καλοκαίρι μέχρι και την Άνοιξη; _____
Η εβδομάδα έχει ..... μέρες.	Πόσες ημέρες έχουν οι 2 εβδομάδες; _____ οι 3 εβδομάδες; _____ οι 4 εβδομάδες; _____
Ο χρόνος έχει ..... μήνες.	Πόσους μήνες έχουν τα 2 έτη; _____ τα 3 έτη; _____ τα 4 έτη; _____
Ο Φεβρουάριος έχει ..... ή ..... μέρες.	Ο Μάρτιος έχει ..... μέρες.
Ο Απρίλιος έχει ..... μέρες.	Ο Αύγουστος έχει ..... μέρες.
Η μέρα έχει ..... ώρες.	Πόσες ώρες έχουν οι 2 ημέρες; _____

## Κάθε πρόταση ή παράγραφος είναι και μια πράξη.

Αποτύπωσέ την και δώσε τη λύση στο κάθε πρόβλημα.

Μοιράζω 18 σοκολατάκια σε 3 παιδιά.

Λύνω:

Σχεδιάζω

40 παιδιά πόσες ομάδες μπάσκετ μπορούν να δημιουργήσουν για το πρωτάθλημα 5X5; (Κάθε ομάδα 5 παιδιά)

Λύνω:

Σχεδιάζω

Ένας χυμός κοστίζει 7 ευρώ. Πόσα χρήματα θα πληρώσουν οι 7 φίλοι για να πάρουν χυμό για τον καθένα τους;

Λύνω:

Σχεδιάζω

Ο κύριος Γιώργος πλήρωσε στον κρεοπώλη 59 ευρώ, στο μανάβη 11 ευρώ και στον φούρναρη 6 ευρώ. Πόσα ξόδεψε για τα ψώνια του συνολικά;

Λύνω:

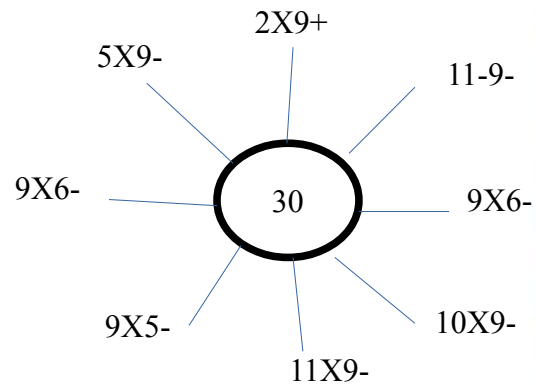
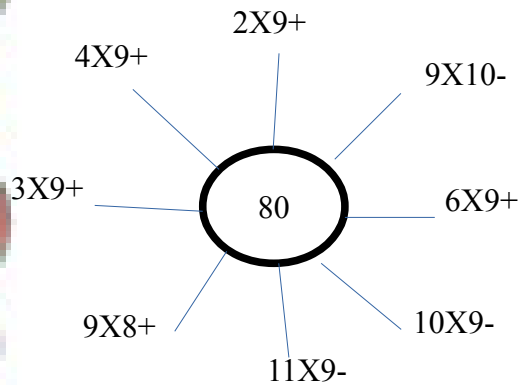
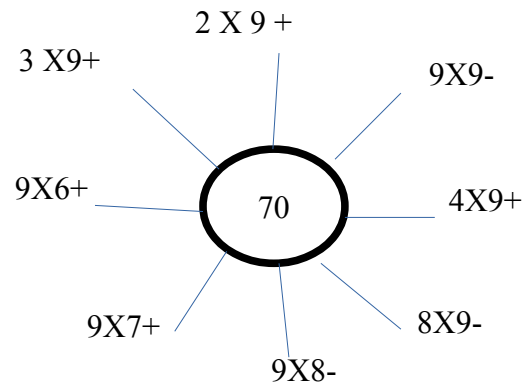
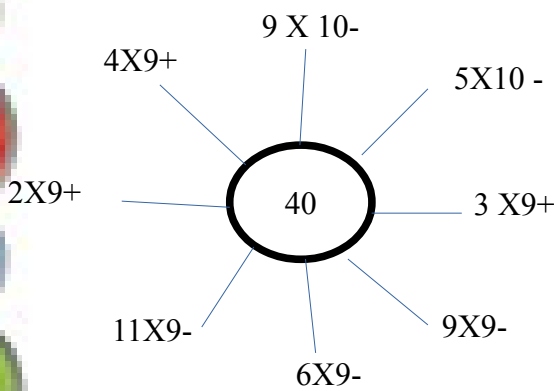
Σχεδιάζω

Ο Απόστολος είχε στο πορτοφόλι του 100 ευρώ. Έδωσε 25 ευρώ στο ζαχαροπλαστείο για να αγοράσει γλυκά. Πόσα χρήματα έχει τώρα;

Λύνω:

Σχεδιάζω

### Προσπάθησε να πετύχεις τους αριθμούς – στόχους



Συμπλήρωσε τους κύκλους με τους πολλαπλασιασμούς που βλέπεις:



Όνομα: \_\_\_\_\_ Ημερομηνία: \_\_\_\_\_