



$420+140+40$ $200+200+500$ $1000-50-50$ $1000-100-100$ $900-500$ $600+150+150$ $150+100+150$ $200+100$
 $300+50+50$ $20+140+40$



100 **200** **300** **400** **500** **600** **700** **800** **900** **1000**

Βάψτε με ίδιο χρώμα τα μπαλόνια που ταιριάζουν

Παίζω το παιχνίδι με τις κάρτες.

Προσπαθώ να φτάσω στον αριθμό στόχο χρησιμοποιώντας τρεις κάρτες. Μπορώ να χρησιμοποιήσω μόνο μία φορά κάθε κάρτα.
 Κάθε φορά διαγράφω τις κάρτες που δεν χρησιμοποιώ **X**

Συμπληρώνω τις αριθμογραμμές. Ανακαλύπτω πρώτα τον κανόνα με τον οποίο αλλάζουν και τον γράφω στο κουτί των κανόνων.

100	95	90									Κανόνας
205	204	203									
670	680										

Γράψε δίπλα σε κάθε αριθμό έναν ακόμη που είναι μικρότερος κατά 2

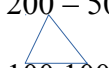
501	
-----	--

600	
-----	--

701	
-----	--

800	
-----	--

Συμπλήρωσε τις ισότητες παρακάτω

$200 - 50 = 100 + 100 - 50$ $300 - 50 =$ $400 - 50 =$ $500 - 50 =$ $600 - 50 =$
 $100 + 50 = 150$ $700 - 50 =$ $800 - 50 =$ $900 - 50 =$ $1000 -$
 $50 =$


Ποιος από τους παρακάτω αθλητές θα πάρει το χρυσό μετάλλιο. Ποιος βγήκε δεύτερος και ποιος τρίτος; (Γράψε τα ονόματα των αθλητών στη θέση που τους ταιριάζει)

Άλμα εις μήκος

Κώστας: 5 μέτρα και 4 δεκατόμετρα

Αντώνης: 545 εκατοστά

Γιώργος: 4 μέτρα και 146 εκατοστά



Συμπληρώνω τον παρακάτω πίνακα

	+100	+200		+150	+250		+120	+140	+160
100			100			100			
200			200			200			
300			300			300			
400			400			400			
500			500			500			
650			600			600			
700			700			700			
800			750			800			

Συμπληρώνω τις αριθμογραμμές παρακάτω:

							500		
103									
							1000	1001	1002
		205							
							900		
				307					
							100		
903									
							700		
	404								
							600		

Όνομα: _____