
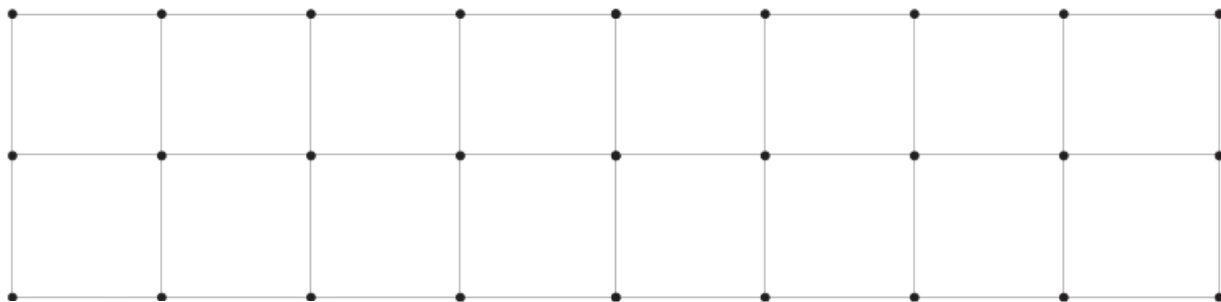


4. Πόσα εκατοστόμετρα είναι η απόσταση από τη μία τελίτσα μέχρι τη διπλανή της στο πλέγμα;

Είναι εκατοστόμετρα.

Φτιάχνω ένα δρόμο μήκους 8 εκ. με κόκκινο χρώμα. Ο διπλάνός μου φτιάχνει με άλλο χρώμα ένα δρόμο με το μισό μήκος.




Πόσα είναι όλα τα αυτοκινητάκια;

Αν έβαφες 5 κόκκινα πόσα θα μπορούσες να βάψεις γαλάζια και πόσα κίτρινα;

Όλα	=	Κόκκινα	+	Γαλάζια	+	Κίτρινα
_____		_____		_____		_____

Πόσα είναι όλα τα αυτοκινητάκια;


Αν έβαφες 8 γαλάζια πόσα θα μπορούσες να βάψεις κόκκινα και πόσα κίτρινα;



Όλα	=	Κόκκινα	+	Γαλάζια	+	Κίτρινα
_____		_____		_____		_____

Πόσα είναι όλα τα αυτοκινητάκια;


Αν έβαφες 10 κίτρινα πόσα θα μπορούσες να βάψεις κόκκινα και πόσα γαλάζια;



Όλα	=	Κόκκινα	+	Γαλάζια	+	Κίτρινα
_____		_____		_____		_____

Πόσα είναι όλα τα αυτοκινητάκια;

Αν έβαφες 3 γαλάζια πόσα θα μπορούσες να βάψεις κόκκινα και πόσα κίτρινα;



Όλα	=	Κόκκινα	+	Γαλάζια	+	Κίτρινα
_____		_____		_____		_____

Όνομα: _____