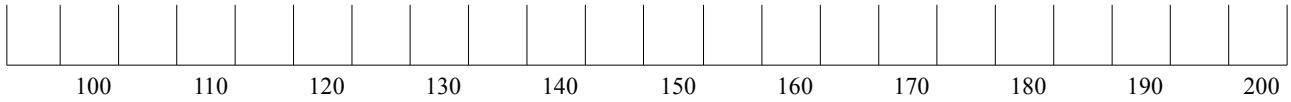
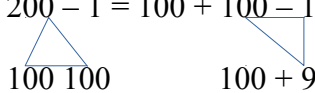


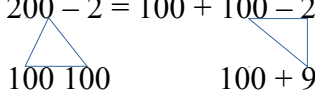
Τοποθέτησε στην αριθμογραμμή τους αριθμούς: 185, 191, 102, 127, 138, 172, 155, 149

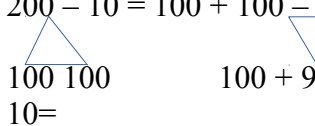


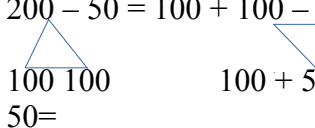
Βάλε το σύμβολο της ανισότητας που ταιριάζει σε κάθε ζευγάρι αριθμών

401		399	899		910	307		301	789		599
401+20		399+30	899+50		910	250+60		301	789		599+280
800-20		760+20	899+50		1000-9	250+60		300-50	900-100		599+201
800-200		700-100	900+50		1000-55	500+60		300-150	750-100		900-201

$200 - 1 = 100 + 100 - 1$        $300 - 1 =$        $400 - 1 =$        $500 - 1 =$        $600 - 1 =$   

 $100 + 99 = 199$        $700 - 1 =$        $800 - 1 =$        $900 - 1 =$        $1000 - 1 =$

$200 - 2 = 100 + 100 - 2$        $300 - 2 =$        $400 - 2 =$        $500 - 2 =$        $600 - 2 =$   

 $100 + 98 = 198$        $700 - 2 =$        $800 - 2 =$        $900 - 12 =$        $1000 - 2 =$

$200 - 10 = 100 + 100 - 10$        $300 - 10 =$        $400 - 10 =$        $500 - 10 =$        $600 - 10 =$   

 $100 + 90 = 190$        $700 - 10 =$        $800 - 10 =$        $900 - 10 =$        $1000 -$   
 $10 =$

$200 - 50 = 100 + 100 - 50$        $300 - 50 =$        $400 - 50 =$        $500 - 50 =$        $600 - 50 =$   

 $100 + 50 = 150$        $700 - 50 =$        $800 - 50 =$        $900 - 50 =$        $1000 -$   
 $50 =$

Γράψε δίπλα σε κάθε αριθμό έναν ακόμη που είναι μικρότερος κατά 2

501		600		701		800	
-----	--	-----	--	-----	--	-----	--

Γράψε δίπλα σε κάθε αριθμό έναν ακόμη που είναι μικρότερος κατά 10

501		600		701		800	
-----	--	-----	--	-----	--	-----	--

Γράψε δίπλα σε κάθε αριθμό έναν ακόμη που είναι μεγαλύτερος κατά 100

501		600		701		800	
-----	--	-----	--	-----	--	-----	--

Γράψε δίπλα σε κάθε αριθμό έναν ακόμη που είναι μεγαλύτερος κατά 199

501		601		701		801	
-----	--	-----	--	-----	--	-----	--

Όνομα: \_\_\_\_\_