



Κύκλωσε και βάνε τις μισές μπάλες από κάθε ομάδα. Στη συνέχεια γράψε τον αριθμό τους από κάτω όπως σου το ζητάει η άσκηση.




Όλα είναι.....  
Τα μισά είναι.....



Όλα είναι.....  
Τα μισά είναι.....



Όλα είναι.....  
Τα μισά είναι.....



Όλα είναι.....  
Τα μισά είναι.....

Όλα είναι.....  
Τα μισά είναι.....

Όλα είναι.....  
Τα μισά είναι.....

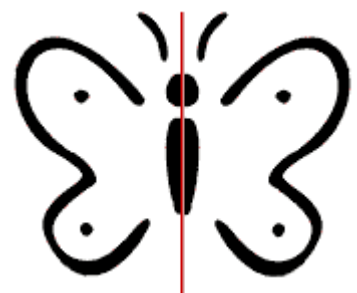


Όλα είναι.....  
Τα μισά είναι.....

Συμπλήρωσε τον παρακάτω πίνακα:



2	+	2	=	4	άρα	το μισό του	4	είναι	
3	+	3	=		άρα	το μισό του		είναι	
4	+	4	=		άρα	το μισό του		είναι	
5	+	5	=		άρα	το μισό του		είναι	
6	+	6	=		άρα	το μισό του		είναι	
7	+	7	=		άρα	το μισό του		είναι	
8	+	8	=		άρα	το μισό του		είναι	
9	+	9	=		άρα	το μισό του		είναι	
10	+	10	=		άρα	το μισό του		είναι	
15	+	15	=		άρα	το μισό του		είναι	
20	+	20	=		άρα	το μισό του		είναι	
25	+	25	=		άρα	το μισό του		είναι	
30	+	30	=		άρα	το μισό του		είναι	
35	+	35	=		άρα	το μισό του		είναι	
40	+	40	=		άρα	το μισό του		είναι	
45	+	45	=		άρα	το μισό του		είναι	
50	+	50	=		άρα	το μισό του		είναι	

Χρωμάτισε το μισό από κάθε εικόνα



Όνομα: \_\_\_\_\_