




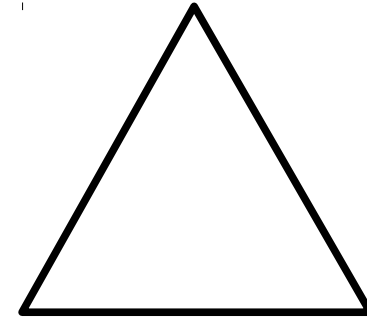
Τι σχήμα είναι; (Μετράς κάθε φορά με τον χάρακά σου)

Προσπάθησε να βρεις την περίμετρό του



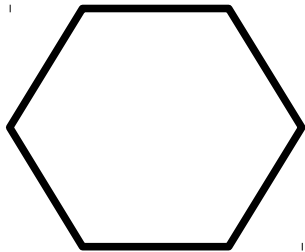
Τι σχήμα είναι;

Προσπάθησε να βρεις την περίμετρό του



Τι σχήμα είναι;

Προσπάθησε να βρεις την περίμετρό του

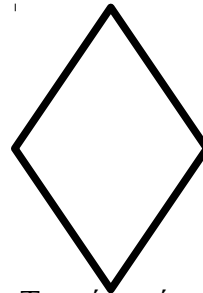


Τι σχήμα είναι; (Μετράς κάθε φορά με τον χάρακά σου)

Πολύ.....

Προσπάθησε να βρεις την περίμετρό του

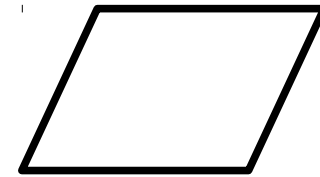
Όνομα: _____



Τι σχήμα είναι;

Ρόμβος

Προσπάθησε να βρεις την περίμετρό του



Τι σχήμα είναι;

Προσπάθησε να βρεις την περίμετρό του
