

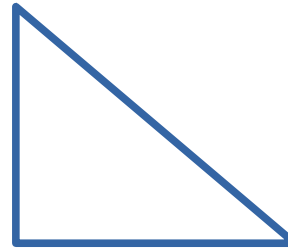


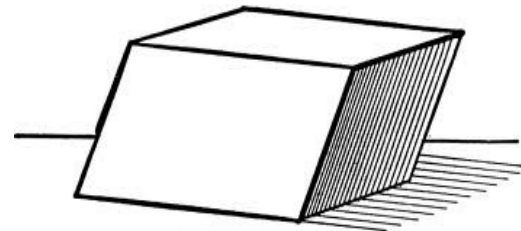
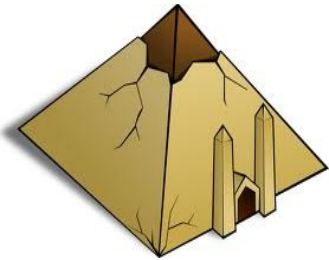


Μπορείς να ονομάσεις τα παρακάτω σχήματα; (ορθογώνιο, τετράγωνο, κύκλος, τρίγωνο, παραλληλόγραμμο)



Ονόμασε και κάθε γεωμετρικό στερεό . (κύβος, κύλινδρος, σφαίρα, ορθογώνιο παραλληλεπίπεδο, πυραμίδα, παραλληλεπίπεδο) Όταν το κάνεις αντιστοίχισέ τα με τα γεωμετρικά σχήματα που ταιριάζουν.



Όνομα _____

Ημερομηνία _____