










Στην αγορά για ψώνια

Το Σάββατο το πρωί κατέβηκε ο Θανάσης με τη μαμά του στην αγορά για να αγοράσουν ποδήλατο. Αυτό που άρεσε τελικά στο Θανάση κόστιζε 75 Ευρώ. Ποια από τα παρακάτω χαρτονομίσματα πρέπει να δώσει στον έμπορο για να αγοράσει το ποδήλατο; (Γράψε όσους πιθανούς συνδυασμούς χαρτονομισμάτων σκεφτείς)

| Χαρτονομίσματα | 1η περίπτωση | 2η περίπτωση | 3η περίπτωση | 4η περίπτωση | 5η περίπτωση | 6η περίπτωση | 7η περίπτωση |
|---|--------------|--------------|--------------|--------------|--------------|--------------|--------------|
|  | 1 | | | | | | |
|  | 7 | | | | | | |
|  | 0 | | | | | | |
|  | 0 | | | | | | |
|  | 0 | | | | | | |

Κάνε το ίδιο για ένα μπουφάν που κόστιζε 85 Ευρώ

| Χαρτονομίσματα | 1η περίπτωση | 2η περίπτωση | 3η περίπτωση | 4η περίπτωση | 5η περίπτωση | 6η περίπτωση | 7η περίπτωση |
|---|--------------|--------------|--------------|--------------|--------------|--------------|--------------|
|  | | | | | | | |
|  | | | | | | | |
|  | | | | | | | |
|  | | | | | | | |
|  | | | | | | | |

Όνομα: _____