


33. Υπολογίζω περιμέτρους και εμβαδά

1. Υπολογίζω την περίμετρο και το εμβαδόν των παρακάτω σχημάτων:


α.



... εκ.

..... εκ.

β.



..... εκ.

.....
.....
.....
.....
.....
.....

2. Σχεδιάζω ένα τετράγωνο: α. με περίμετρο 10 εκ. β. με εμβαδόν 4 τ. εκ.

α.

β.

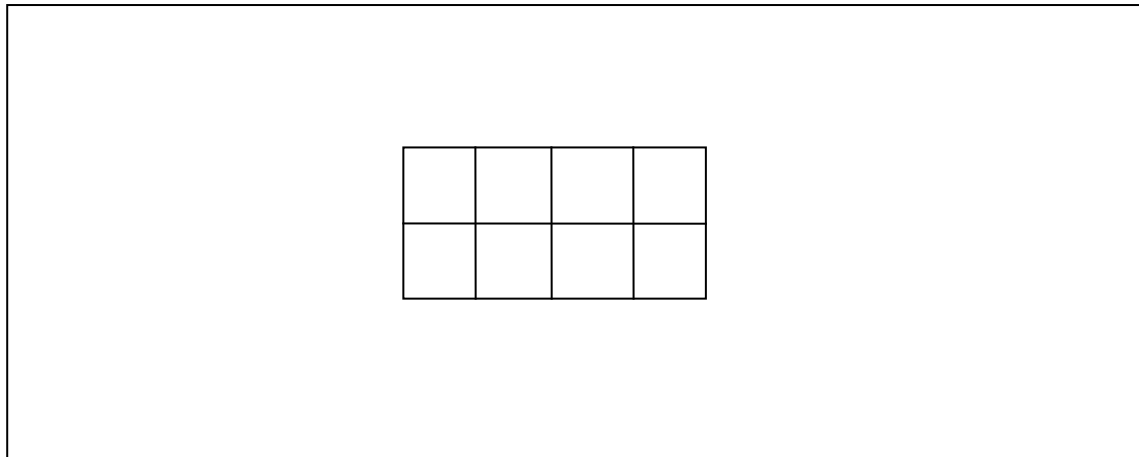
3. Σχεδιάζω ένα ορθογώνιο παραλληλόγραμμο: α. με περίμετρο 10 εκ. β. με εμβαδόν 8 τ.εκ.

α.

β.

ΟΝΟΜΑΤΕΠΩΝΥΜΟ: _____ / / _____

4. Υπολογίζω πόσα πλακάκια χρειάζονται ακόμη για να καλυφθεί η υπόλοιπη επιφάνεια.



ΛΥΣΗ

ΑΠΑΝΤΗΣΗ:

5. Υπολογίζω την περίμετρο και το εμβαδόν των παρακάτω σχημάτων.

