




# ΕΠΑΝΑΛΗΠΤΙΚΕΣ ΑΣΚΗΣΕΙΣ ΣΤΑ ΜΑΘΗΜΑΤΙΚΑ ΚΕΦ.33

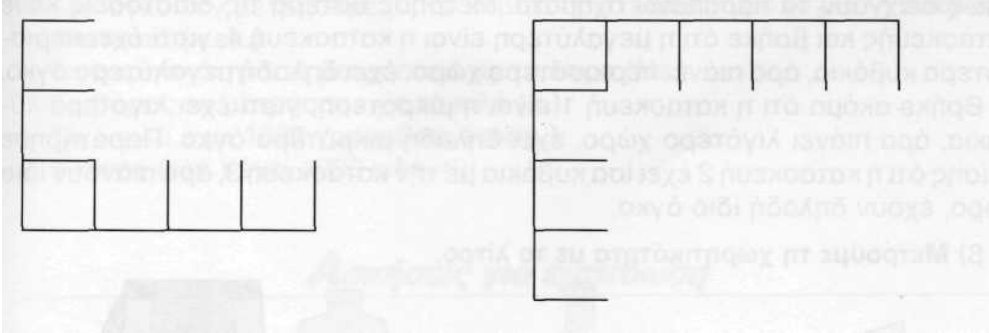
ΟΝΟΜΑ : ..... ΗΜΕΡΟΜΗΝΙΑ: .....



Άσκηση 1: Μπορείς να μαντέψεις το εμβαδόν των παρακάτω σχημάτων;

Εμβαδόν = .....τ.εκ.

Εμβαδόν= .....τ.εκ.




Άσκηση 2: Να κατασκευάσεις ένα τετράγωνο με πλευρά 4 εκατοστά και ύστερα να βρεις την περίμετρο και το εμβαδόν του.

Άσκηση 3: Να κατασκευάσεις ένα ορθογώνιο με μήκος 5 εκ. και πλάτος 3εκ. Ύστερα να βρεις την περίμετρο και το εμβαδόν του.

Άσκηση 4: Να βρεις την περίμετρο και το εμβαδόν στα παρακάτω σχήματα.

Εμβαδόν: .....τετ. εκ.  
Περίμετρος:..... εκ.



Εμβαδόν:.....τετ.εκ.  
Περίμετρος: .....εκ.

