


Πόσα ρέστα θα πάρεις αν για να αγοράσεις το παπάκι;



Απαντήσεις: Αν δώσω 5€ θα πάρω ____ € ρέστα.
 Αν δώσω 10€ θα πάρω ____ € ρέστα
 Αν δώσω 20€ θα πάρω ____ € ρέστα.
 Αν δώσω 50€ θα πάρω ____ € ρέστα
 Αν δώσω 100€ θα πάρω ____ € ρέστα

Βάλε στη σειρά τους παρακάτω αριθμούς από τον μικρότερο στον μεγαλύτερο:

0,01 0,1 0,2 0,03 0,004 0,002 0,4 0,001

0,3 0,02 0,003 0,04

< < < < < < < < < <

0,001										0,4
-------	--	--	--	--	--	--	--	--	--	-----

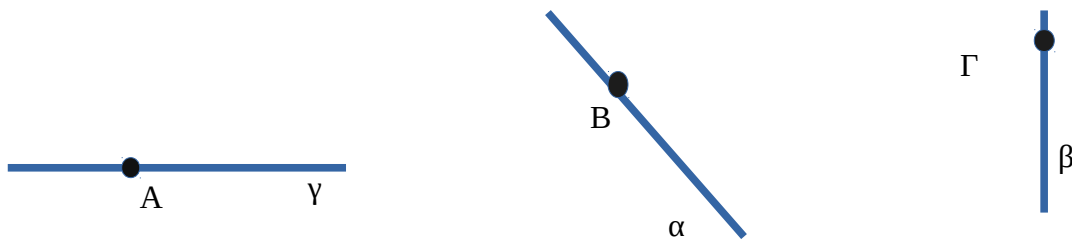
Να κάνεις τις παρακάτω μετατροπές:

$$\frac{12}{10} = \quad , \quad \frac{125}{10} = \quad , \quad \frac{1250}{10} = \quad , \quad \frac{12}{100} = \quad , \quad \frac{125}{100} = \quad ,$$


$$\frac{1250}{100} = \quad , \quad \frac{12}{1000} = \quad , \quad \frac{125}{1000} = \quad , \quad \frac{1250}{1000} = \quad ,$$

$$0,53 = \frac{\dots}{\dots} \quad 1,2 = \frac{\dots}{\dots} \quad 1,3 = \frac{\dots}{\dots} \quad 0,54 = \frac{\dots}{\dots} \quad 155,25 = \frac{\dots}{\dots} \quad 15,34 = \frac{\dots}{\dots}$$

Στις παρακάτω ευθείες να φέρεις κάθετες από το σημεία τους.



Υπολόγισε το εμβαδό των ορθογωνίων σχημάτων παρακάτω. Πρέπει να γνωρίζεις ότι κάθε κουτάκι στο εσωτερικό του είναι ίσο με ένα τετραγωνικό εκατοστό (τ.εκ)

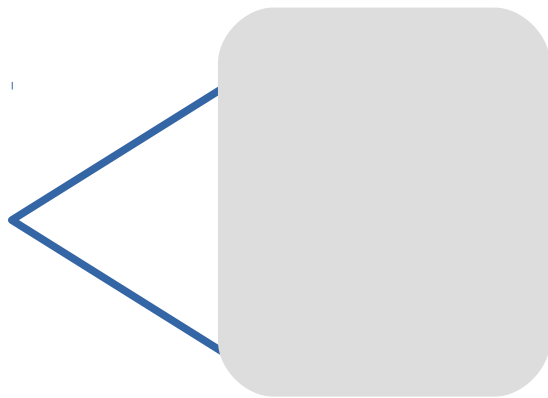


Ποιο σχήμα μπορεί να κρύβεται κάτω από την γκρι επιφάνεια; Κύκλωσε τις σωστές απαντήσεις. Προσπάθησε να το σχηματίσεις με τον χάρακά σου.

Τετράγωνο; Ναι! Όχι! Τρίγωνο; Ναι! Όχι!

Ορθογώνιο; Ναι! Όχι! Κύκλος; Ναι! Όχι!

Πλάγιο παραλληλόγραμμο; Ναι! Όχι! Ρόμβος; Ναι! Όχι!



Οριζόντια

3. $15Mx+60M$

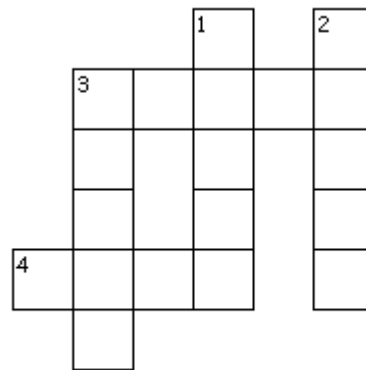
4. $50E$

Κάθετα

1. $1\Delta X$

2. $2\Delta X$

3. $1\Delta X+1E$



Συμπληρώνω τις αριθμογραμμές παρακάτω:

10.000	11.000								
9.100	10.100								
9.500	9.600	9.700							
16.950	16.960								
19.100	19.200								
15.850	15.900								

Πετυχαίνω τους αριθμούς στόχους κάνοντας τις πράξεις

$20.000 -$ $14.900 +$ $20.000 -$	$10.000 +$ $3x$ $16.950 -$	$20.000 -$ $17.900 +$ $17.999 +$	$10.000 +$ $3x$ $19.950 -$
<div style="border: 2px solid blue; border-radius: 50%; width: 60px; height: 60px; display: flex; align-items: center; justify-content: center; margin: 0 auto;">15.000</div>		<div style="border: 2px solid blue; border-radius: 50%; width: 60px; height: 60px; display: flex; align-items: center; justify-content: center; margin: 0 auto;">18.000</div>	