


ΕΠΑΝΑΛΗΠΤΙΚΕΣ ΑΣΚΗΣΕΙΣ ΣΤΑ ΜΑΘΗΜΑΤΙΚΑ κεφ.30

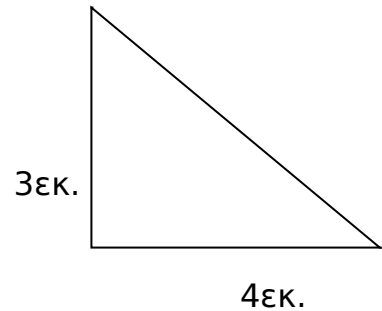
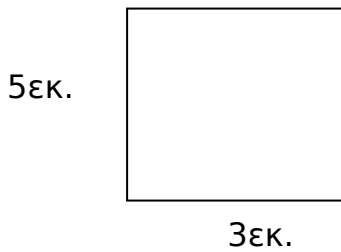
ΟΝΟΜΑ : ΗΜΕΡΟΜΗΝΙΑ:




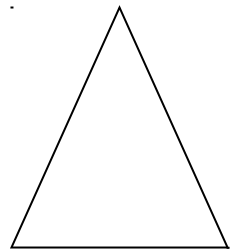
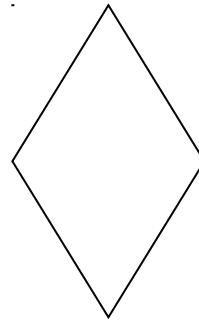


1. Με ποια μονάδα μέτρησης θα μετρούσες:

- ❖ Το μήκος του κρεβατιού σου; _____
- ❖ Το πάχος του βιβλίου σου; _____
- ❖ Το ύψος σου; _____
- ❖ Το μήκος μιας κιμωλίας; _____

2. Να βρεις την περίμετρο των σχημάτων :



3. Στα παρακάτω σχήματα σχεδίασε με πράσινο χρώμα το περίγραμμα και με κίτρινο την επιφάνεια.



4. Μια τετραγωνική πλατεία έχει μήκος 30 μέτρα . Πόσα μέτρα είναι η περίμετρός της;

Λύση :

Απάντηση: _____

