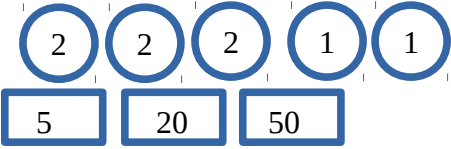
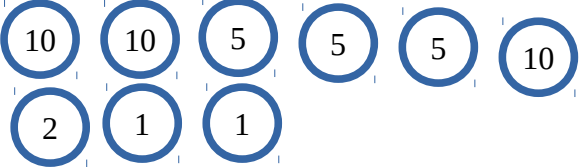
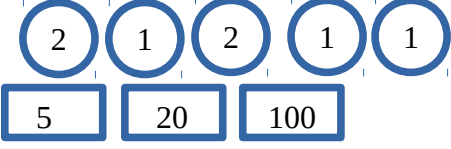
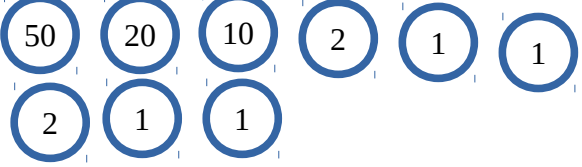
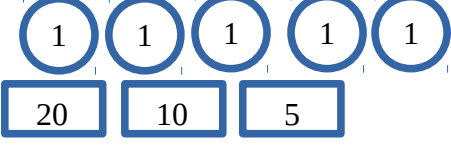
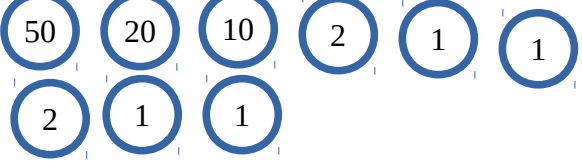
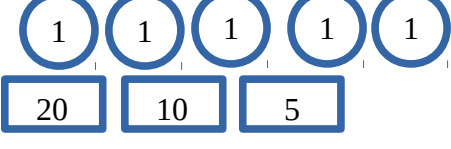
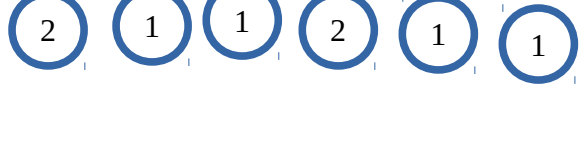





Όνομα: _____

Γράψε με δεκαδικό αριθμό την αξία των κερμάτων που σου δίνονται:

<p>Ολόκληρα ευρώ</p>  <p>5 20 50</p>	<p>Λεπτά του ευρώ</p> 
<p>Ολόκληρα ευρώ</p>  <p>5 20 100</p>	<p>Λεπτά του ευρώ</p> 
<p>Ολόκληρα ευρώ</p>  <p>20 10 5</p>	<p>Λεπτά του ευρώ</p> 
<p>Ολόκληρα ευρώ</p>  <p>20 10 5</p>	<p>Λεπτά του ευρώ</p> 
<p>Ολόκληρα ευρώ</p>  <p>20 10</p>	<p>Λεπτά του ευρώ</p> 
<p>Ολόκληρα ευρώ</p>  <p>20 10</p>	<p>Λεπτά του ευρώ</p> 