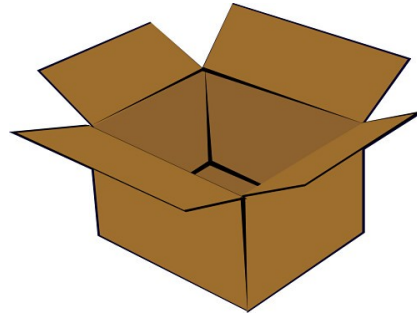



Όνομα _____
Επώνυμο _____
Ημ/νία _____

ΠΡΟΒΛΗΜΑΤΑ



1. Το ένα κουτί χωράει 60 μολύβια. Ένα χαρτοκιβώτιο χωράει 25 κουτιά.
☞ Πόσα μολύβια μπορούν να συσκευασθούν σε ένα χαρτοκιβώτιο;



ΥΠΟΛΟΓΙΖΩ

Απάντηση:

2. Ένα εργαστήριο ζαχαροπλαστικής συσκευάζει τα κέικ σε κουτιά των 12 τεμαχίων. Στη συνέχεια τα τοποθετεί σε χαρτοκιβώτια που χωράνε 18 κουτιά.
☞ Πόσα κέικ υπάρχουν σε ένα χαρτοκιβώτιο;



ΥΠΟΛΟΓΙΖΩ

Απάντηση:

3. Το σχολικό λεωφορείο της εικόνας χωράει 24 μαθητές. Κάθε μέρα κάνει 16 δρομολόγια.

☞ Πόσους μαθητές μεταφέρει;




ΥΠΟΛΟΓΙΖΩ

Απάντηση:

4. Το σχολείο μας έχει 12 τμήματα. Το κάθε τμήμα έχει 23 μαθητές.

☞ Πόσους μαθητές έχει το σχολείο;




ΥΠΟΛΟΓΙΖΩ

Απάντηση:

5. Η φάλαινα είναι θηλαστικό και για να αναπνεύσει ανεβαίνει στην επιφάνεια της θάλασσας κάθε 30 λεπτά. Αφού συμπληρώσεις τον πίνακα μπορείς να υπολογίσεις πόσες φορές ανεβαίνει στην επιφάνεια σε ένα μήνα;

ΩΡΕΣ	1	2	4	10	20	24
ΕΠΙΦΑΝΕΙΑ	2					



ΔΑΣΚΑΛΟΣ:
ΦΩΤΗΣ ΣΤΑΜΟΣ

ΥΠΟΛΟΓΙΖΩ

Απάντηση: